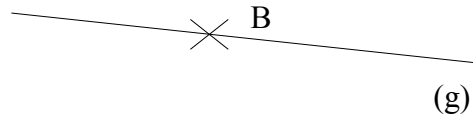


Fülle den folgenden Text aus, indem du dieses Wörterkästchen benützt.

<b>die Gerade(n)</b>	<b>der Zentimeter(-)</b>	<b>die Halbgerade(n)</b>
<b>die Länge(n)</b>	<b>der Endpunkt(e)</b>	<b>schneiden</b>
<b>der Punkt(e)</b>	<b>der Schnittpunkt(e)</b>	<b>die Strecke(n)</b>
<b>senkrecht aufeinander stehen</b>		<b>parallel</b>



Der ..... A die .....(g).

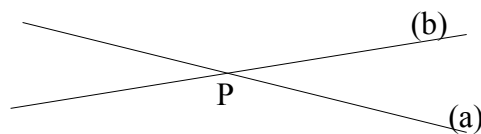
Der Punkt B liegt auf der Geraden (g).  
Die Gerade (g) geht durch den Punkt B.



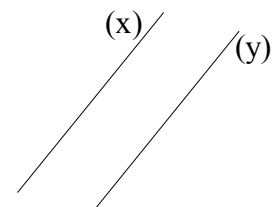
Die ..... [CD) die .....[EF]

E und F sind die ..... der Strecke [EF].  
Die .....der Strecke ist gleich ..... Zentimeter. EF = .....cm.

Die Gerade (a) schneidet die Gerade (b).  
P ist der .....



Die Gerade (x) ist ..... zu der Geraden (y).  
Die Geraden (x) und (y) sind ..... zueinander.



Die Geraden (a) und (b)sind .....  
Die Gerade (a) steht ..... (b).

