

# Le coin du prof

Maths alors !



1

Du nouveau !

Remue-méninge

10

2

9

Espace

#DSDEN86  
**MATHebdo**

3

8

10

PROBLÈMES  
PAR SEMAINE

4



7

Problem  
in English



6

5

Entraînement

**Semaine 30 - GS**



# Le coin du prof



**Apprendre à chercher...**

Les élèves ne savent pas prendre d'**initiative**. Ils sont en difficulté dès lors qu'ils ne sont pas fortement guidés. Apprenons-leur à **chercher** en leur proposant des problèmes où la **recherche sera ouverte**.

**Enrichir la culture ...**

... en leur proposant des problèmes ancrés dans des **thèmes motivants**, en **croisant les disciplines** et en favorisant l'ouverture vers des **situations de la vie**.

**Planifier...**

... dans votre futur emploi du temps de l'**année prochaine** la ritualisation de l'entraînement à la résolution de problèmes avec les **roues #MATHebdo** qui reviendront dès septembre pour une nouvelle année !!!



**Découvrez le nouveau guide sur la construction du nombre au cycle 1**

**Codage**

<b>Problème n°</b>	1	2	3	4	5	6	7	8	9	10
<b>Codage</b>	-	AD	E	D	B	AD	i	FK	j	j



Du nouveau !

1

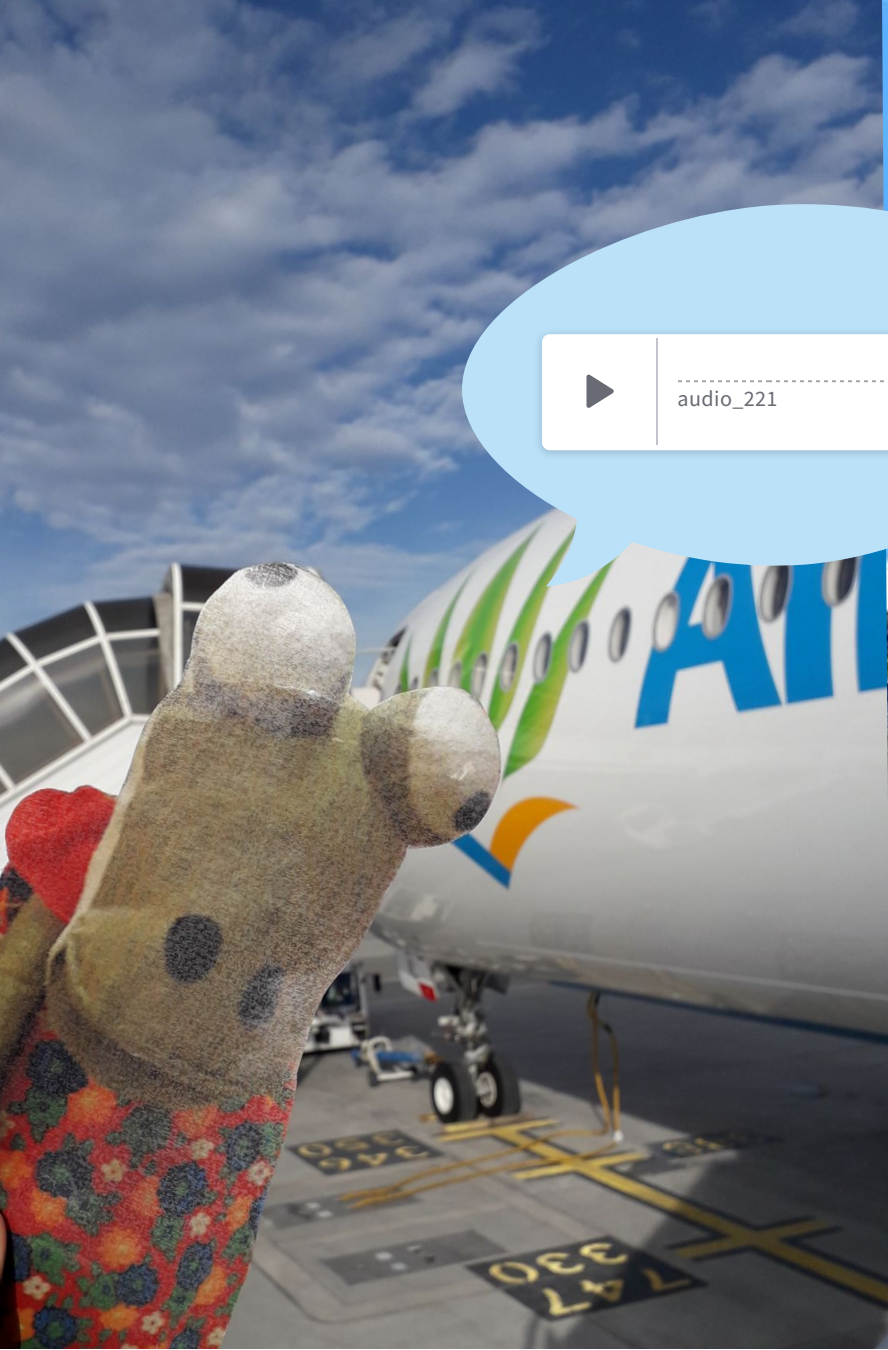

Merci !!!



nous contacter...



# Josette part en vacances







Entrainement

3

# Voyage autour du monde

E



Conseils



réponse

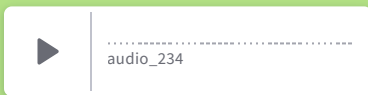


Entrainement

4

# Ma tirelire de voyage

D







## Entraînement

5

# Le bus au Sénégal

B

Le chauffeur du bus sort de son garage et se dirige vers la place du marché.

7 personnes montent dans le bus au départ.  
Le trajet compte 3 arrêts.

- Au premier arrêt 3 voyageurs montent.
- Au deuxième arrêt 5 passagers descendent.
- Au troisième arrêt 4 personnes montent à bord.

**Combien de personnes arrivent sur la place du marché ?**









6

# Voyage en montgolfière

A/D







Problem in English

7



*Around the world with James*



Le tour du monde en 15 jours

a flag



Chile



Togo



Panama



Senegal



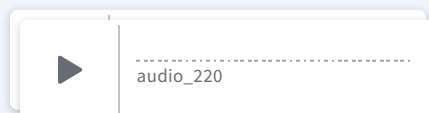
Burkina Faso



Suriname

1 2 3 4 5 6 7 8

answer





aide

*Ecoute bien James, répons à sa question et clique sur le bon drapeau...*



Espace

8



Solution



F/K

	<i>Le logix musical</i>				

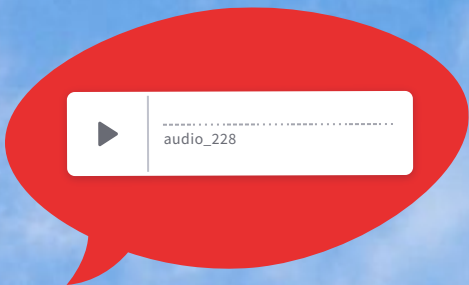






Espace

9

# Le damier







## Le cadenas



Indices



A son retour de voyage, Gilbert a oublié le code de sa valise. **Aide-le à trouver la bonne série de couleurs pour ouvrir le cadenas.**

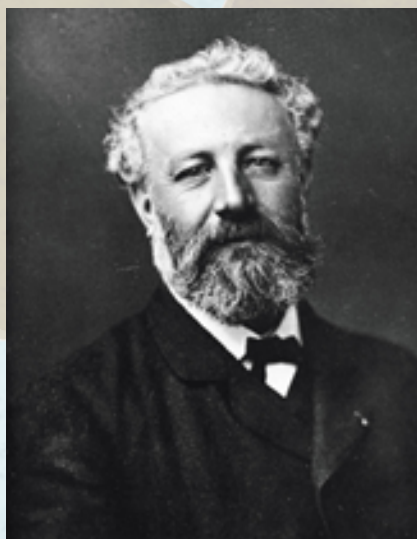


Maths alors !

# Le Tour du Monde en 80 jours

Phileas Fogg est le héros du "Tour du monde en quatre-vingts jours", roman de Jules Verne paru en 1872.

Clique sur l'image pour découvrir une carte interactive de son voyage autour du monde :



Jules Verne



Étape	Transport	Durée
1. Londres - Suez	Chemin de fer et paquebot	7 jours
2. Suez - Bombay	Paquebot	13 jours
3. Bombay - Calcutta	Chemin de fer	3 jours
4. Calcutta - Hong Kong	Paquebot	13 jours
5. Hong Kong - Yokohama	Paquebot	6 jours
6. Yokohama - San Francisco	Paquebot	22 jours
7. San Francisco - New York	Chemin de fer	7 jours
8. New York - Londres	Paquebot et chemin de fer	9 jours

Calcule le nombre de jours passés dans un chemin de fer uniquement (étapes 3 et 7).