

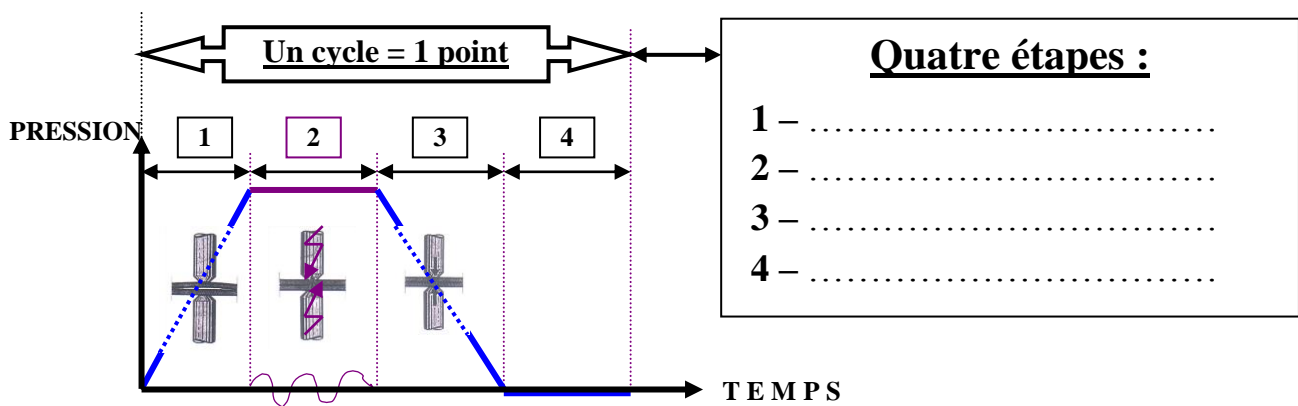
1- DONNEZ LA SIGNIFICATION DES LETTRES S.E.R.P : /1

.....

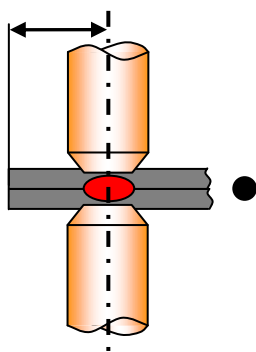
2- LE SOUDAGE S.E.R.P PERMET D'OBTENIR : (Cocher la bonne réponse) /1

- Un assemblage thermique permanent hétérogène.
- Un assemblage thermique permanent autogène.
- Un assemblage thermique non permanent hétérogène.

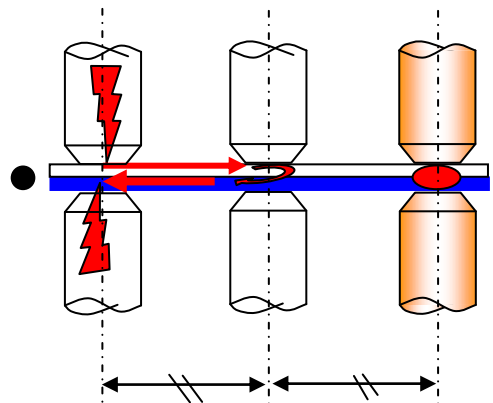
3- NOMMEZ CHACUNE DES ÉTAPES DU CYCLE DE SOUDAGE S.E.R.P : /2



4- RELIER LES FORMULES AUX SCHÉMAS QUI CORRESPOND : /2



- 10ep + 10 mm ●
- 3ep + 2 mm ●



5- CITEZ UN RIQUE PROFESSIONNEL LIÉ À L'ACTIVITÉ: /2

➤

.....

6- RAYER L'ÉQUIPEMENT DE PROTECTION INUTILE: /2

- **INDIVIDUELLE** : Lunette de protection, masque à soudure, gants en cuir, combinaison de travail.
- **COLLECTIF** : Une couverture anti-feux, des écrans de soudure, une aspiration des fumées nocives.