










**1****CHOISIR L'UNITÉ ADAPTÉE****Longueurs (1)**

- Ouvrir l'application CONVERTIR 
- Choisir LONGUEURS 
- Cliquer sur « CHOISIR L'UNITÉ ADAPTÉE » 
- Choisir 5 questions **SCORE :**
- Cliquer sur COMMENCER
- Choisir Niveau de difficulté : **1**




**2****CHOISIR L'UNITÉ ADAPTÉE****Longueurs (2)**

- Ouvrir l'application CONVERTIR 
- Choisir LONGUEURS 
- Cliquer sur « CHOISIR L'UNITÉ ADAPTÉE » 
- Choisir 5 questions **SCORE :**
- Cliquer sur COMMENCER
- Choisir Niveau de difficulté : **2**




**3****CHOISIR L'UNITÉ ADAPTÉE****Masses (1)**

- Ouvrir l'application CONVERTIR 
- Choisir MASSES 
- Cliquer sur « CHOISIR L'UNITÉ ADAPTÉE » 
- Choisir 5 questions **SCORE :**
- Cliquer sur COMMENCER
- Choisir Niveau de difficulté : **1**




**4****CHOISIR L'UNITÉ ADAPTÉE****Masses (2)**

- Ouvrir l'application CONVERTIR 
- Choisir MASSES 
- Cliquer sur « CHOISIR L'UNITÉ ADAPTÉE » 
- Choisir 5 questions **SCORE :**
- Cliquer sur COMMENCER
- Choisir Niveau de difficulté : **2**

**5****CHOISIR L'UNITÉ ADAPTÉE****Capacités (1)**

- Ouvrir l'application CONVERTIR 
- Choisir CAPACITÉS 
- Cliquer sur « CHOISIR L'UNITÉ ADAPTÉE » 
- Choisir 5 questions **SCORE :**
- Cliquer sur COMMENCER
- Choisir Niveau de difficulté : **1**

**6****CHOISIR L'UNITÉ ADAPTÉE****Capacités (2)**

- Ouvrir l'application CONVERTIR 
- Choisir CAPACITÉS 
- Cliquer sur « CHOISIR L'UNITÉ ADAPTÉE » 
- Choisir 5 questions **SCORE :**
- Cliquer sur COMMENCER
- Choisir Niveau de difficulté : **2**

**7****CHOISIR L'UNITÉ ADAPTÉE**

La longueur d'une trousse est de 17 ....

m | mm | dam | cm

**8****CHOISIR L'UNITÉ ADAPTÉE**

La distance entre Poitiers et la Rochelle ....

m | km | dm | cm

9

CHOISIR L'UNITÉ ADAPTÉE



Le diamètre d'un tourteau fromager.

mm | dam | dm | cm

10

CHOISIR L'UNITÉ ADAPTÉE



La longueur d'un pou.

dm | dam | cm | mm

11

CHOISIR L'UNITÉ ADAPTÉE



La contenance d'un seau d'eau.

mL | daL | L | cL

12

CHOISIR L'UNITÉ ADAPTÉE



La masse d'un bébé.

g | kg | dg | cg

13

CHOISIR L'UNITÉ ADAPTÉE



La masse d'une voiture.

kg | t | g | hg

14

CHOISIR L'UNITÉ ADAPTÉE



La contenance d'un verre à boire.

L | mL | cL | daL

15

CHOISIR L'UNITÉ ADAPTÉE



La masse d'une fourmi.

g | mg | cg | kg

16

CHOISIR L'UNITÉ ADAPTÉE



La contenance d'une cuillère à café.

mL | cL | L | dL

# CHOISIR L'UNITÉ ADAPTÉE

## Exercice interactif



<https://dqxy.link/choisir-unite>

Source : Mathalea (<http://coopmaths.fr>)