

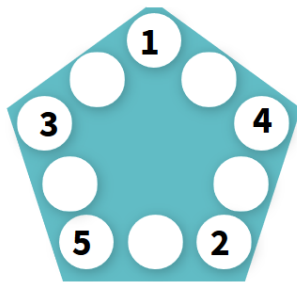
DU NOUVEAU

1. **Combien de livres la librairie a-t-elle reçus au total ?** La librairie a reçu 3 cartons de livres pour enfants. Il y avait 5 livres dans chaque carton.

2. **Combien de sachets peuvent être remplis ?** Aroon prépare des sachets de friandises pour tous les participants de sa fête. Chaque sac doit contenir 4 chocolats. Il a 16 chocolats.

ENTRAINEMENT

3. **Complète les bulles du pentagone pour que la somme des nombres des 3 bulles de chaque côté soit égale à 14.**




4. **Combien de pelles aura-t-il alors ?** Le maître souhaite réaliser avec ses élèves un jardin potager dans l'école. Il a 4 pelles et souhaite en acheter 10 autres pour son atelier plantation.

5. **Combien de fleurs de chaque couleur Justine a-t-elle pu cueillir ?** Cherche avec tes camarades les 9 solutions possibles ! Justine a cueilli 10 fleurs dans le jardin de sa grand-mère. Certaines étaient rouges et d'autres étaient jaunes.

6. **Devine quel nombre je suis.** Je suis constitué d'un seul chiffre. Je suis plus grand que 5 et plus petit que 8. Je suis le double de 3.

7. **Colorie les wagons du train selon les couleurs indiquées.** Le premier wagon après la locomotive est rouge, le 3ème est jaune, le 6ème est orange, le 5ème est violet, le 7ème est rose. Colorie celui avant le wagon jaune en bleu. Quel est le rang de ce wagon bleu ?



GEOMETRIE

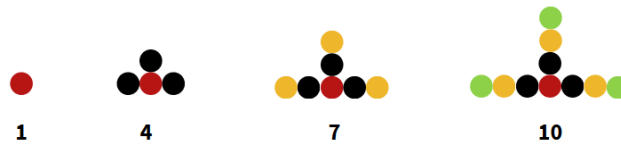
8. **Où est le cube jaune ?** Fabrique une tour en empilant un cube **vert**, un cube **jaune** et un cube **bleu** en respectant la consigne suivante : « Le cube **vert** est en haut de la tour. Le cube **bleu** est en dessous. »

9. **Sur quel symbole arrives-tu ?** Place ton doigt sur la fenêtre avec une étoile. Va à gauche de 2 fenêtres puis à droite de 4 fenêtres.



REMUE-MENINGE

Quel sera le nombre suivant ? L'image montre les 4 premiers nombres d'une suite.



MATHS alors ! **Les suites mathématiques**

Ce n'est pas si compliqué dès que l'on sait lire et dire les chiffres !

Trouve la suite de cette série de nombres :

1
11
21
1211
111221
312211 ...

Tu penses que c'est compliqué alors dis ce que tu vois à voix haute, une ligne après l'autre.

