

Le coin du prof

Maths alors !



1

Du nouveau !

Remue-méninge

10

2

9

Espace et
Géométrie

8

#DSDEN86
MATHebdo

3

10

PROBLÈMES
PAR SEMAINE

4



Chocolat



Problem
in English

7

6

5



Entraînement

Semaine 18 - CP





Le coin du prof

Relancer...

...le travail des élèves bloqués, pour des raisons mathématiques ou non, en posant des **questions** pour les aider à s'approprier l'énoncé, en invitant à faire un schéma ou en proposant du matériel.

Proposer...

... à des élèves ne trouvant pas la même chose de **comparer leurs résultats** et leurs procédures pour se mettre d'accord en les invitant si besoin à utiliser les **ressources** à leur disposition (cahier de référence ou affichages)

Organiser le travail en groupe

Vous devez proposer d'abord un **temps de travail individuel** pour que les élèves s'approprient le problème chacun à leur **rythme** et s'engagent dans le travail de groupe ensuite.

Problème n°	1	2	3	4	5	6	7	8	9	10
Codage	2	1	Tâtonnement 1	1	2	Math et EPS avec APECUS	1	Codage	Tangram	Déduction



Chemin des champions :





Du nouveau !

1

Ce dimanche, nous avons fait une "**chasse aux oeufs**" avec mon frère.

J'en ai trouvé **28**. Mon frère en a ramassé **9** de moins que moi.



La chasse aux oeufs



Combien mon frère a-t-il ramassé d'oeufs ?



ardoise

Représenter / Modéliser

?



Du nouveau !



2

Les tablettes

Il y a 6 carreaux dans chacune de ces trois tablettes.



Combien de carreaux de chocolat y a-t-il en tout ?



ardoise

Représenter
/ Modéliser





Entraînement

3

Radi MATHebdo

Chaud cacao !



*Cette semaine, Cosinus
a manqué son réveil ;-)
Mais patience !
L'émission sera publiée
dés mardi...*





Entraînement

4

La tablette croquée

Combien y avait-il de carreaux de chocolat ?



ardoise

Représenter / Modéliser






Entraînement

5

Le chocolat est fabriqué à partir d'un fruit appelé la **cabosse**. Celle-ci pousse dans le cacaoyer.

Dans une cabosse on peut compter jusqu'à **60 graines** qui donneront les fèves de cacao.



ardoise



Sur les **60** graines de cette cabosse, j'en ai déjà récoltées **40**.



Combien reste-t-il de graines dans cette cabosse ?

La cabosse



Cette vidéo est hébergée par YouTube. En affichant ce contenu, vous acceptez les [conditions d'utilisation](#) de YouTube.

AFFICHER LA VIDÉO

Se souvenir de mon choix



Représenter / Modéliser



Entraînement

6



CALCUL MENTAL avec Apécus

RÉALISE LE MOUVEMENT QUI CORRESPOND AU RÉSULTAT

YouTube. En affichant ce contenu, vous acceptez les [conditions d'utilisation](#) de YouTube.

AFFICHER LA VIDÉO



11



19



13

ardoise



CLIC !



Problem in English

7




James and the chocolate

Listen to James and answer his question.

?



1 2 3 4 5 6 7 8 9 10



answer

bonus





Choisis **le chemin le plus court** pour ramasser les 3 oeufs et les déposer dans le panier.


Code ces déplacements sur ton ardoise.

Donne le résultat quand tu passes sur une case "calcul".

Tâtonner



clique plusieurs fois






Géométrie

9

La poule



Solution



Tâtonner



Le prix des chocolats



6 €



7 €



4 €



?



?



?





Maths alors !

Le chocolat, ça nous fait rêver...

Comme le dit si bien
le dicton populaire :

Si **1 élève sur 10 élèves** dit
ne pas aimer le chocolat,
**combien diront ne pas aimer dans une
classe de 20 élèves ?**

Combien d'élèves aiment le chocolat ?

*" Neuf personnes sur
dix aiment le chocolat,
la dixième ment ! "*

