



Le coin du prof

Maths alors !



1

Du nouveau !

Remue-méninge

10

2

9

Espace et
Géométrie

8



3



4



Problem
in English

7

6



5

Entraînement

Roue 30 - CP





Le coin du prof

La vie est complexe : elle a une partie réelle et une partie imaginaire.

Blagues de matheux

Quel est le comble du mathématicien ?
C'est de se faire piquer sa moitié par un tiers dans un car.

Un physicien et un mathématicien sont assis. Soudain, la machine à café prend feu. Le physicien se lève, saisit un seau, court le remplir et éteint le feu. Le lendemain, alors qu'ils sont assis au même endroit, la machine à café prend à nouveau feu. Le mathématicien saisit le seau, le tend au physicien et ramène ainsi le problème à un problème précédemment résolu.

Chemin des champions :



Codage des problèmes :



Problème n°	1	2	3	4	5	6	7	8	9	10
Codage		 monnaie				Calculs avec Apecus	 	Sudoku	Formes géométriques	Logique



Du nouveau !

1

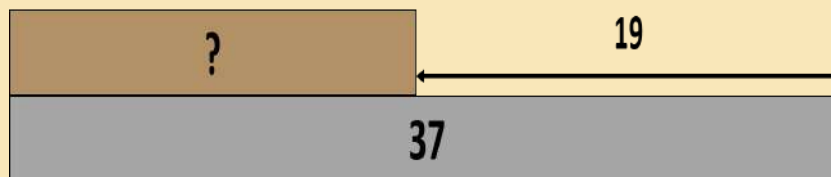
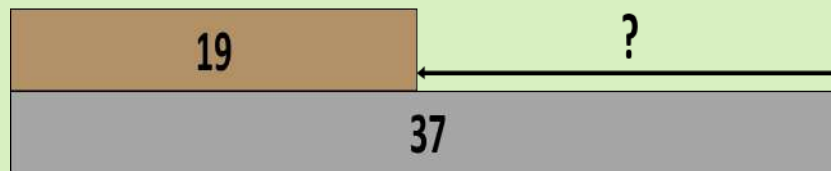
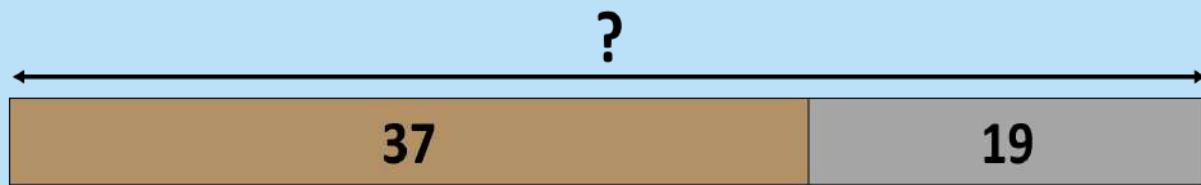
Croisière sur le Nil en Egypte

Lors de leur croisière sur le Nil, 2 bateaux se croisent. Sur l'un 37 personnes ont embarqué, sur l'autre ils sont 19 de moins.



Combien y a-t-il de personnes sur le second bateau ?

Choisis le bon modèle en barres et résous le problème.



Ardoise

Solution





Du nouveau !

2

Les bouées

**Combien
coûtent ces
deux bouées ?**



*Paie ces bouées
avec pièces et
billets.*



Ardoise

VERIFIER

Représenter / Modéliser

?

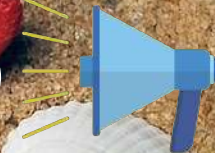


Entraînement

3

Radi MATHebdo

RapidoQuizz : Voilà l'été!



Emission écrite et enregistrée
par les élèves de l'Ecole René Bureau
de Jaunay-Marigny (86)
Classe de CM1-CM2
Enseignante : Delphine PROU



RapidoQuizz - 1/2

Partie 1/2



RapidoQuizz - 2/2

Partie 2/2



L'énoncé de Louis

L'énoncé de Louis



Ardoise



Représenter
/ Modéliser





Mehdi va au marché.



Il achète **34 fruits** :

- une **dizaine d'abricots**,
- **9 figues**,
- une **douzaine de prunes**,
- et des **melons**.



Combien a-t-il acheté de melons ?



Ardoise

Représenter / Modéliser





Sur la plage



Combien y a-t-il de pelles ?




9 seaux ont été déposés au pied de ce parasol. C'est 2 de plus que le nombre de pelles.

Combien y a-t-il de pelles ?



Représenter / Modéliser





Entraînement

6

Activité Physique
Quotidienne


CALCUL MENTAL avec APEQUS

RÉALISE LE MOUVEMENT QUI CORRESPOND AU RÉSULTAT

Défi pause active
en rythme et en
s'amusant !




20



24



30



Coin du prof



ardoise



CLIC !



Problem in English

7



JAMES IS MAKING A FRUIT SALAD



slate



1 2 3 4 5 6 7 8 9 10

réponse



aide

bonus



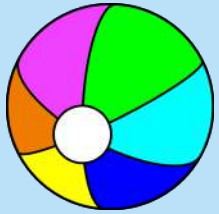
Ecoute bien James et réponds à la question en anglais...



Géométrie

8

Sudoku sur la plage



Règle du jeu



Tâtonner



Solution





Mémoire d'images

FBK ERROR

-><https://universal-soundbank.com/sounds/3084.mp3>



Réponses

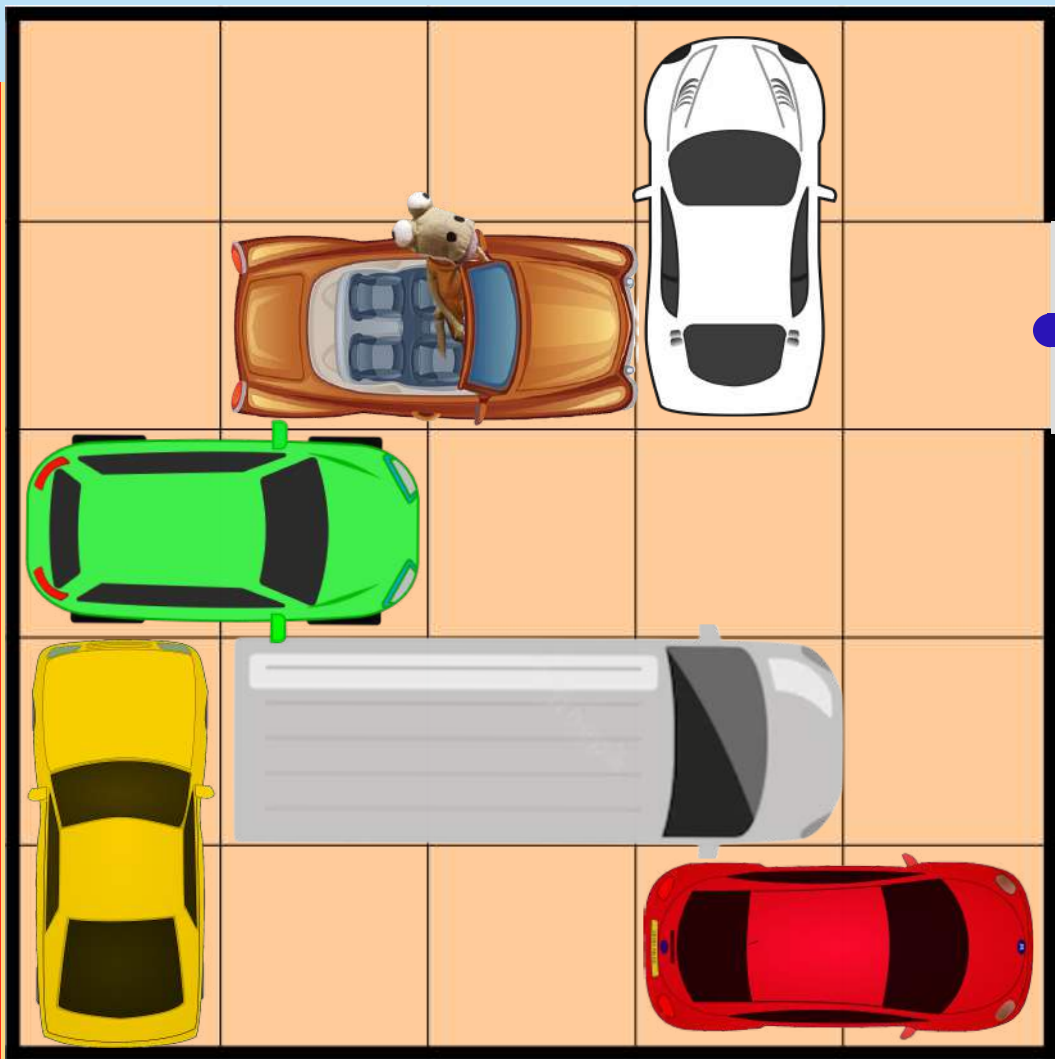




Remue-méninge

10

Embouteillage en partant de la plage



SORTIE

LIMITE

LIMITE



consigne

FONCTION
KEEP IN

FONCTION LIMITATION



MiCetF



Maths alors !

Mathématiques et été l'équation du plaisir



Photo Eric Kermorvan - INSPE Bretagne

De la géométrie sur la plage...



Elyse Dodge

en montagne...

Et à la maison ?



Photo M@ths en-vie

sur un marché...

N'hésite pas à consulter les MATHS Alors de MATHebdo pour rencontrer des mathématiciens et mathématiciennes de génie et tout plein de curiosités mathématiques autour de toi !

Belles vacances !