



# Le coin du prof

Maths alors !



1

Du nouveau !

Remue-méninge

10

2

9

Espace et  
Géométrie

8

3



4



7



Problem  
in English

6

5

Entraînement

Roue 27 - MS





Le rôle de l'étayage qu'apporte l'enseignant pendant la résolution est crucial. Il doit être adapté à chaque élève.

Le **soutien technique** peut être l'aide à la lecture de l'énoncé, aux calculs mais il peut aussi être accompagné par un **soutien cognitif et émotionnel**.

Les modalités mises en place pour la phase de recherche permettront à chacun de s'engager : **autonomie, travail collaboratif, guidé par l'enseignant...**

Codage

Problème n°	1	2	3	4	5	6	7	8	9	10
Codage	G	i/j	G	A/J	A	A J	A	F	i	ij



Du nouveau !

1

# Le Petit Bridge



James



Pépito



René



Gilbert



James



Pépito



René



Gilbert





Vous pouvez aussi jouer au Petit Bridge avec un jeu de carte classique.



Du nouveau !

2

# Les boîtes sensorielles



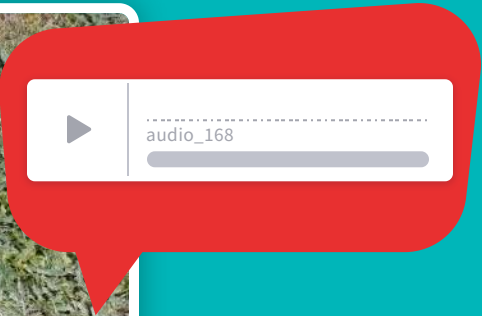




Entraînement

3

# Le jeu de Molkky







Entraînement

4

# Lançons des balles !

A/J



tâtonner




# Entraînement

5

## Le grand jeu des Timalines et des Timalins



AD







## Entraînement

6

# Les dominos de Josette

Josette a rangé ses dominos dans les colonnes, mais elle a laissé quelques erreurs... A toi de les trouver !



réponse ici...








Problem in English

7



# LET'S PLAY WITH JAMES!



- 1
- 2
- 3
- 4
- 5
- 6
- 7
- 8
- 9
- 10

*Ecoute bien James et répons à la question en anglais...*





# Suis les cartes bleues !




Aide BeeBot à retrouver le jeu de cartes.  
Attention ! Elle ne doit passer que sur les cases avec des cartes bleues !



# Memory des formes



Associe les paires...



A grouper avec le  
dos de carte



Essaie encore...





## Le jeu des couleurs



indices



Grey	Grey	Grey
Orange	Black	Purple
Yellow	Green	Blue






Maths alors !

# Emanuel Lasker

mathématicien et champion d'échecs



1 / 10

$17 \cdot 2 = \triangle + 14$

**Consigne**

Voici votre défi : vous devez trouver la valeur de chaque forme pour que les 10 phrases mathématiques soient justes.

Bonne chance !  2

5

OK

Pour les plus grands, vous pouvez relever le défi Learning Apps de l'algèbre.