




Le coin du prof

Maths alors !



1

Du nouveau !

Remue-méninge

10

2

9

Espace et
Géométrie

8



3



SEM AINE 04 / 08
DES LANGUES
VIVANTES
avril 2022

4

7



Problem
in English

6

5

Entraînement

Roue 22 - GS





Le coin du prof

Mathématiques et LVE

Le projet européen eTwinning **YMTA "Your Mathematics Tour Abroad"** cycles 1-2-3-4 et lycée en partenariat avec **M@ths en-vie** est basé sur la réalisation de photos comportant des éléments mathématiques qui permettent la mise en place de situations problèmes en anglais (texte, vidéo, audio) et leurs partages à d'autres classes.

Cliquez sur l'image pour découvrir YMTA



Envie de participer ? Contactez barbara.richard@ac-poitiers.fr ou myriam.richard@ac-poitiers.fr

Codage

Problème n°	1	2	3	4	5	6	7	8	9	10
Codage	A	D	E	A	B	A	Gj	i	j	G



Du nouveau !

1

En Suisse



en allemand...



en italien...



en français...



en romanche...

Le mot CHOCOLAT dans les 4 langues parlées en Suisse...



Représenter/modéliser




Du nouveau !

2

D

Au Brésil







Entraînement

3

Voyage, voyage



--	--	--	--	--





Entraînement

4

L'Awale En Côte d'Ivoire




A



astuce



règles du jeu







Entraînement

5

Les tulipes au Pays-Bas



B



Tu peux faire glisser les tulipes jusqu'à Josette...



Entraînement

6

Figurines d'Europe



4€

6€



1€



Tâtonner





Problem in English

7



JAMES CAN COUNT TO 10 IN DIFFERENT LANGUAGES!



CHALLENGE 1



CHALLENGE 2





1 2 3 4 5 6 7 8



Ecoute bien James et relève les défis !



L'Union Jack








Le tableau à double entrée



Fais glisser les images dans les bonnes cases pour remplir le tableau.

			
8			
9			
10			



Remue-méninge

10

la langue des signes

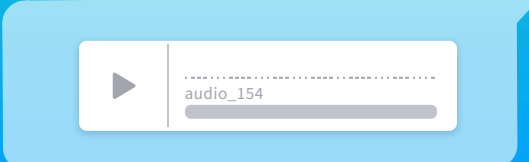


G

Apprends les jours de la semaine en LSF



modèle





Maths alors !

Tout le monde parle maths !

La réelle langue universelle qui nous a accompagnés depuis le début des temps dans notre quête du savoir : les mathématiques !




Yan tarafa 5 cm'lik
bir kare ABCD çizin



Намалюйте квадрат
ABCD на **5** см.



*Dibujar un cuadrado
ABCD de 5 cm de lado*



Ein Quadrat ABCD
von 5 cms an der
Seite zeichnen



*Rita en 5 cm kvadrat
ABCD på sidan*

D'après toi, quelle figure vont réaliser ces élèves ?

