




Le coin du prof

Maths alors !



1

Du nouveau !

Remue-méninge

10

2

9

Espace et Géométrie

8



3



SEMAINE 04 / 08
avril 2022
DES LANGUES
VIVANTES



4



Problem in English

7

6



5

Entraînement

Roue 22 - CP





Le coin du prof

Mathématiques et LVE

Le projet européen eTwinning **YMTA "Your Mathematics Tour Abroad"** cycles 1-2-3-4 et lycée en partenariat avec **M@ths en-vie** est basé sur la réalisation de photos comportant des éléments mathématiques qui permettent la mise en place de situations problèmes en anglais (texte, vidéo, audio) et leurs partages à d'autres classes.

Cliquez sur l'image pour découvrir YMTA



Envie de participer ? Contactez barbara.richard@ac-poitiers.fr ou myriam.richard@ac-poitiers.fr

Chemin des champions :



Codage des problèmes :



Problème n°	1	2	3	4	5	6	7	8	9	10
Codage	2	1 2 Monnaie	1	1	1	Calculs avec Apecus	🇬🇧 Défis	Drapeau	Quadrillage	Jeu



Du nouveau !

1

Figurines d'Europe



13€



19€

Trouve le prix de la danseuse espagnole et de la figurine de la reine d'Angleterre.



5€



Ardoise

Solutions



MULTICLIC !





Du nouveau !

2

Souvenir d'Angleterre

En Angleterre, les anglais ne paient pas avec des Euros (€) mais avec des Livres Sterling (£).



J'ai trois billets de 5 Livres Sterling.

Combien me manque-t-il pour acheter cette très jolie tasse représentant la reine Elisabeth II ?



VERIFIER



Représenter /
Modéliser



Ardoise

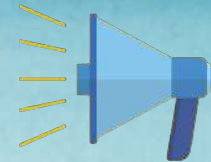


Entraînement

3

Radi MATHebdo

Vive les langues !



Globe trotter - 1/2

Partie 1/2



Globe trotter - 2/2

Partie 2/2



L'énoncé de Cosinus

L'énoncé de Cosinus



Ardoise



Représenter
/ Modéliser





Entraînement

4

Rickshaw ou Tuk-tuk



En Inde, on peut se déplacer à l'aide du rickshaw, appelé également Tuk-Tuk.

C'est un petit véhicule de transport léger à trois roues.



Calcule le nombre de roues pour 5 rickshaw.



Ardoise

Représenter / Modéliser





Entraînement

5

фрукти

10 pommes (яблука), **6 bananes** (банани), **6 mangues** (манго) et **7 oranges** (апельсин) viennent de tomber du panier.



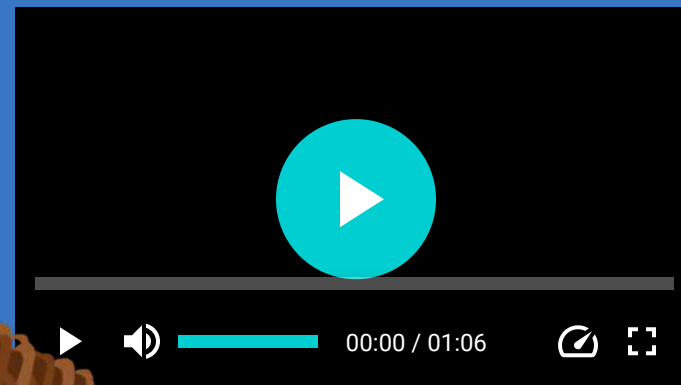
Combien de fruits sont tombés du panier ?



Ardoise



Représenter / Modéliser





Entraînement

6

Gym de doigts et de l'esprit avec Apécus



modèle

<https://dessinemoiunehistoire.net/initiation-langue-signes-francaise-maternelle/>

+

-

Compose et résous des calculs à l'aide des représentations en Langue des Signes Français.



Apprends les jours de la semaine en LSF

ardoise





Problem in English

7



JAMES CAN COUNT TO 10 IN DIFFERENT LANGUAGES!



CHALLENGE 1



slate

CHALLENGE 2



1 2 3 4 5 6 7 8 9 10





aide

Ecoute bien James et relève les défis !



I'Union Jack



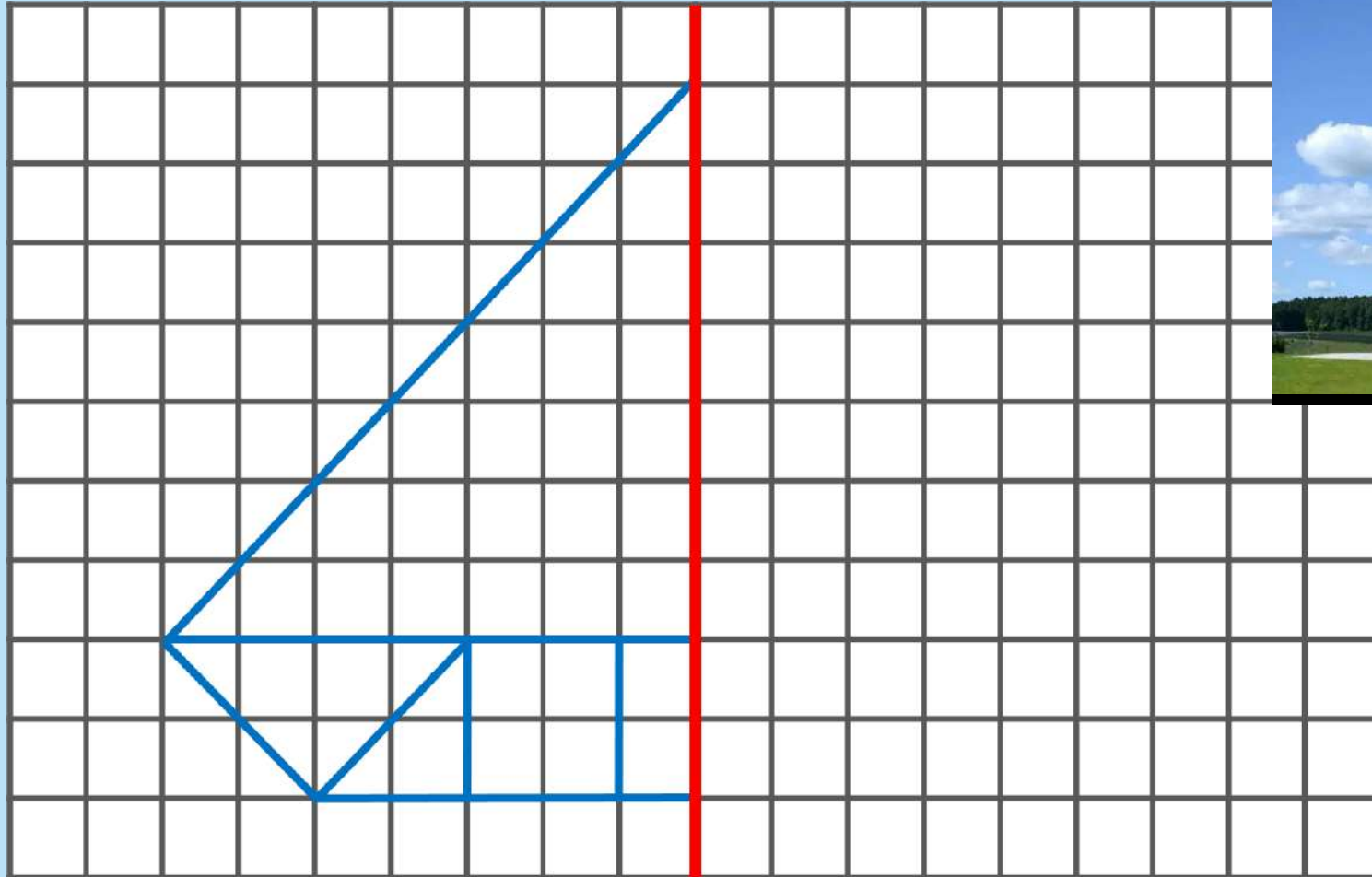
Great !!!





Défi géométrique

[Académie de Nancy-Metz](#)



CLIC !

+ Tâtonner

Solution



Remue-méninge

10

L'Awale En Côte d'Ivoire



Règles du jeu





Maths alors !

Tout le monde parle maths !

La réelle langue universelle qui nous a accompagnés depuis le début des temps dans notre quête du savoir : les mathématiques !



D'après toi, quelle figure vont réaliser ces élèves ?

