



E.P.I. « Sur la piste des héros de l'ombre »
Français / Histoire-Géographie
Collège Jean Lartaut – Jarnac

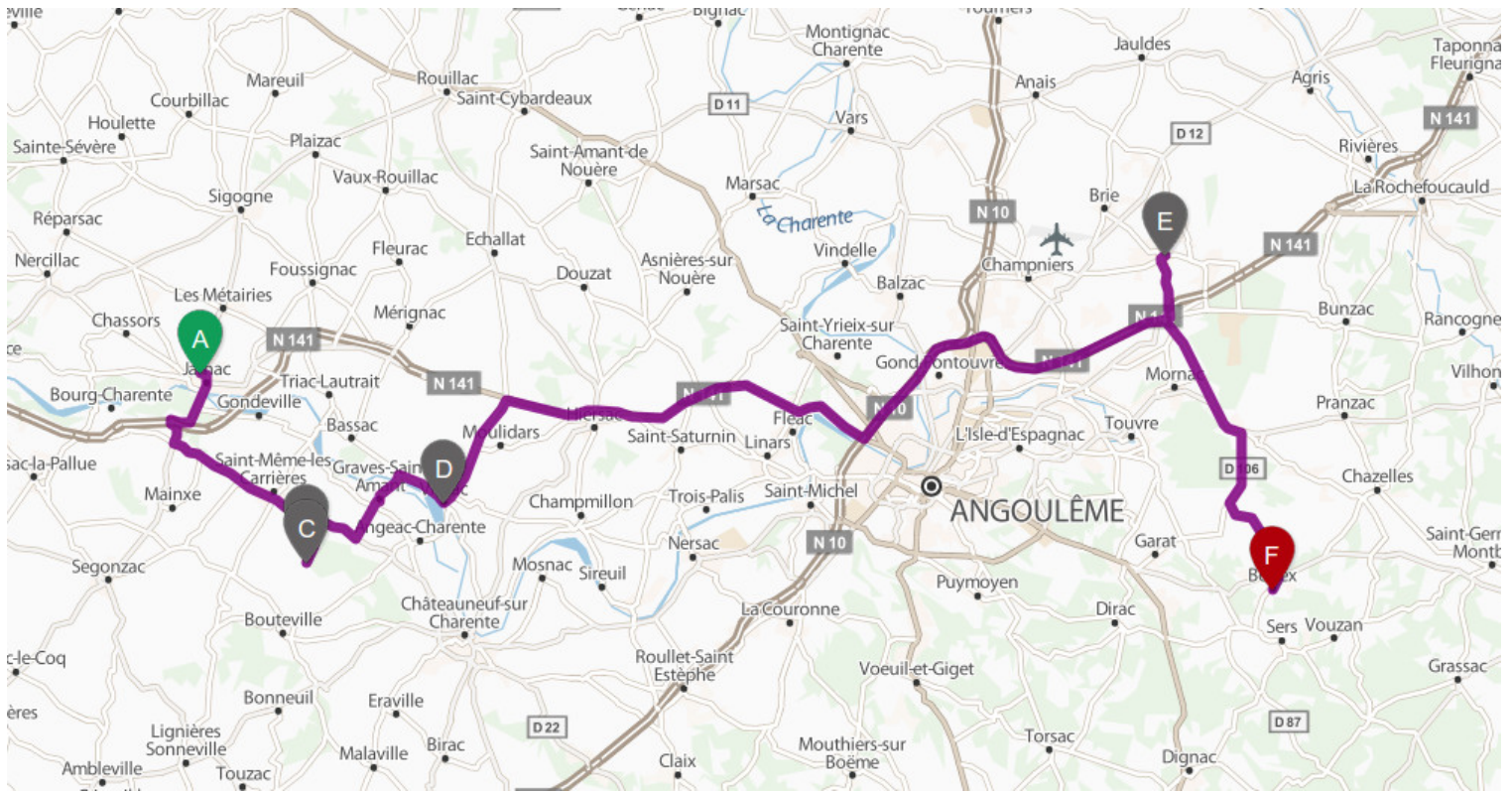


De Jarnac à la ligne de démarcation : résister en Charente.

Livret du rallye



Illustrations : Genet (C.), Moreau (L.), *Les Deux Charentes sous l'Occupation et la Résistance*, Gémozac, La Caillerie, 1987 - Espace mémoriel de la Résistance et de la déportation - Archives départementales de la Charente – Pixabay – photographies musée de Gérard Duruisseaud - photographies personnelles.
Conception et réalisation : Jean-Christophe Temdaoui, Claire Mallard, Karène Rodène-Paupy, Pierre Laurence, Barthès Céline, Lascours Karine, Lecorne Marion, Bui-Quoc Séverine, Lesaint Pascal, février 2017.



PROGRAMME DE LA JOURNÉE :

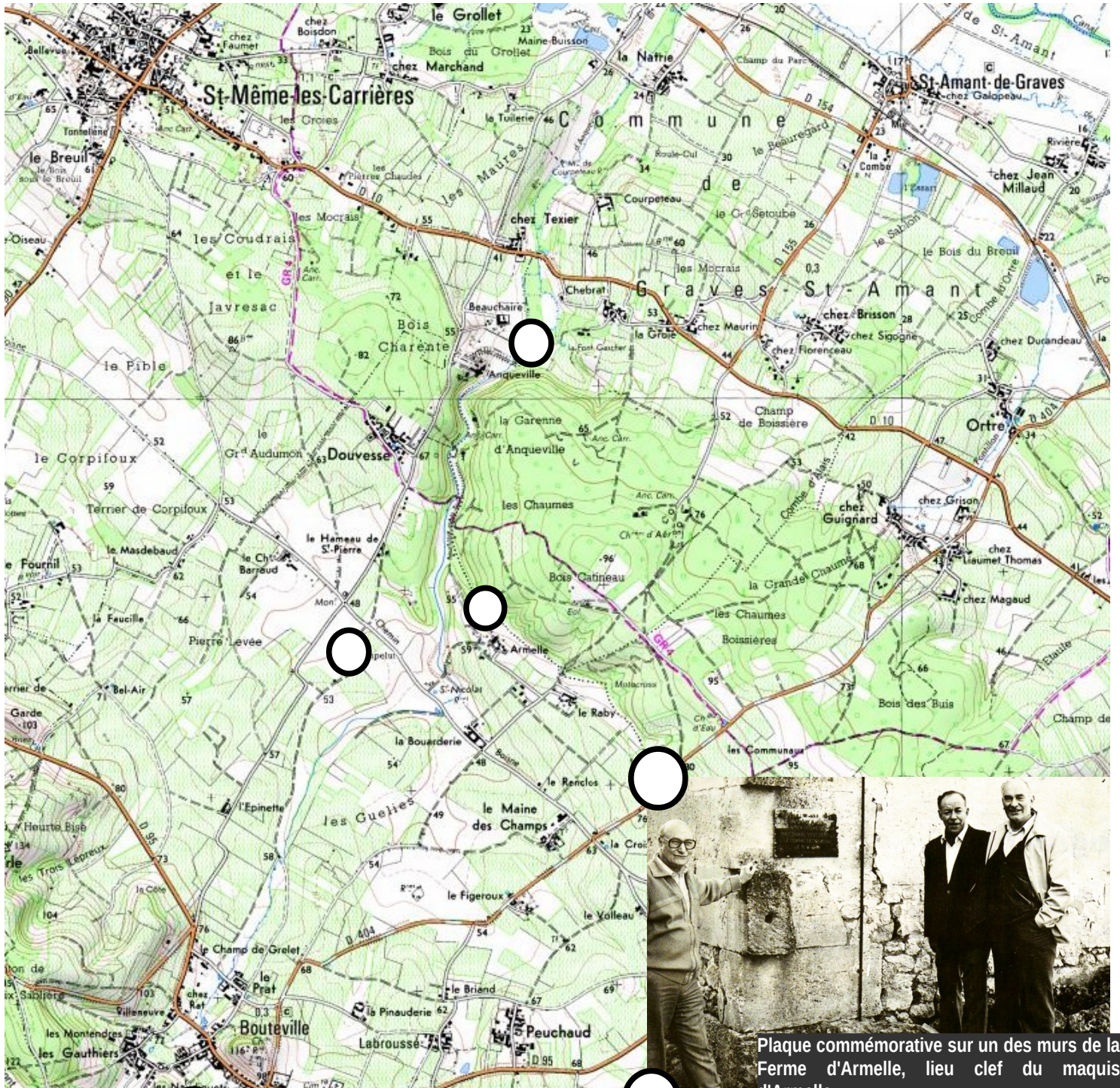
8 h 00 - Départ du collège Jean Lartaut	Jarnac
8 h 30 – Episode n°1 : Le Maquis	Douvesse, Bouteville
9 h 15 – Episode n°2 : La Pierre	Hameau Saint-Pierre, Bouteville
9 h 30 – Episode n°3 : L'Atterrissage	Angeac-Charente & Vibrac
11 h 00 – Episode n°4 : L'Exécution capitale	Monument des Fusillés de la Braconne, Brie
	*
12 h 30 – Pause déjeuner	
	*
14 h 00 – Episode n°5 : la Section	Ferme Duruisseau, Bouex
16 h 45 – Retour au collège Jean Lartaut	Jarnac

Matériel nécessaire :

- Un crayon de papier et une gomme ;
- Quelques crayons de couleurs (vert, rouge, bleu)
- Un support rigide pour compléter les activités ;
- Le poème réalisé à la manière des Fusillés de Châteaubriant ; les lettres des fusillés et de leur femme
- Un appareil photographique ou un téléphone portable.

ÉPISODE N°1 : LE MAQUIS

Lieu de Résistance n°1 : le maquis d'Armelle (Bouteville)



Plaque commémorative sur un des murs de la Ferme d'Armelle, lieu clef du maquis d'Armelle



Voiture allemande Matford criblée de balles par les tirs des maquisards d'Armelle au hameau St-Pierre, au carrefour entre la route de Bouteville et le chemin de Boisne



L'entrée du Château d'Anqueville, lieu de naissance du futur maquis d'Armelle. Il appartient à René Tatou

1] Numérote les 3 photographies ci-dessus et reporte sur la carte le numéro de chaque photographie à l'endroit approprié.

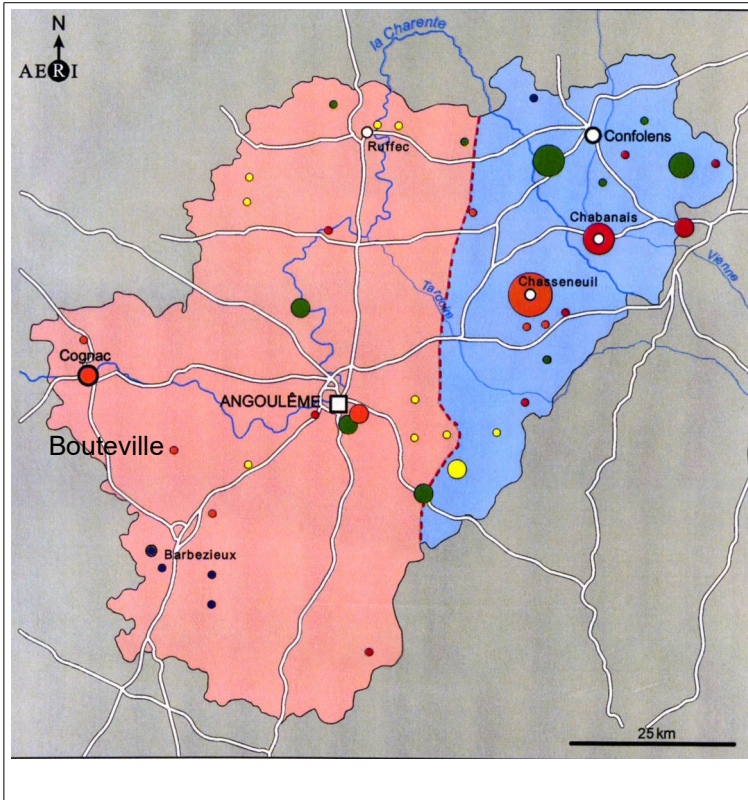
2] A l'aide de la carte topographique ci-dessus, dans quel environnement s'implante le maquis d'Armelle ?

3] En t'aidant de la carte et de sa légende :













Dans quelle zone se trouve Jarnac ?

Retrouve à quel grand maquis s'affilie le maquis d'Armelle à Bouteville ?

Quelles autres villes de la zone occupée ont des liens avec ce maquis ?



Les maquis dans le département de la Charente

- | | | | |
|-----------------------------------------------------------------------------------|-------------------------------|-------------------------------------------------------------------------------------|----------------------|
|  | Zone libre |  | Ligne de démarcation |
|  | Zone occupée |  | Cours d'eau |
|  | Groupe F.T.P. Bernard LELAY |  | Routes principales |
|  | Maquis Bir-Hacheim |  | Préfecture |
|  | Groupe Jacques Nancy (S.S.S.) |  | Ville principale |
|  | Maquis Foch |  | Ville secondaire |
|  | Autres groupes | | |

Qui dirige le maquis d'Armelle ?

Entoure le sur la photographie.

Quels sont les deux étrangers présents au maquis d'Armelle ?

Surligne leur nom et identifie les sur les deux photographies.



Dans la salle commune de la ferme d'Armelle, en août 1944, l'Anglais Alain Matthews assis entre le chef Henri Vallentin et Alex Barreau.



Au camp d'Armelle, fin juillet 1944, devant la porcherie servant de prison. En chemise, l'Allemand Karl Keller, prisonnier très coopératif.

Lieu de Résistance n°2 : le combat de Douvesse



Quand a lieu le combat de Douvesse ?

Quelle en est la cause ?

Comment se termine la bataille ?

ÉPISODE N°2 : LA PIERRE

Lieu de mémoire n°1 : le monument aux Résistants du carrefour du chemin de Boisne (Bouteville)

ANECDOTE 1 : le combat de Douvesse

1] Quel type de pierre a été utilisée pour la construction du monument ?

2] Combien de blocs ont servi à la construction ?

5-6-7-8-9-10

3] Relève un symbole de la Résistance sur ce monument.

4] Retrouve l'indice photographique ci-contre. Quel personnage représente-t-il ?

5] Relève tous les attributs qui le caractérisent.

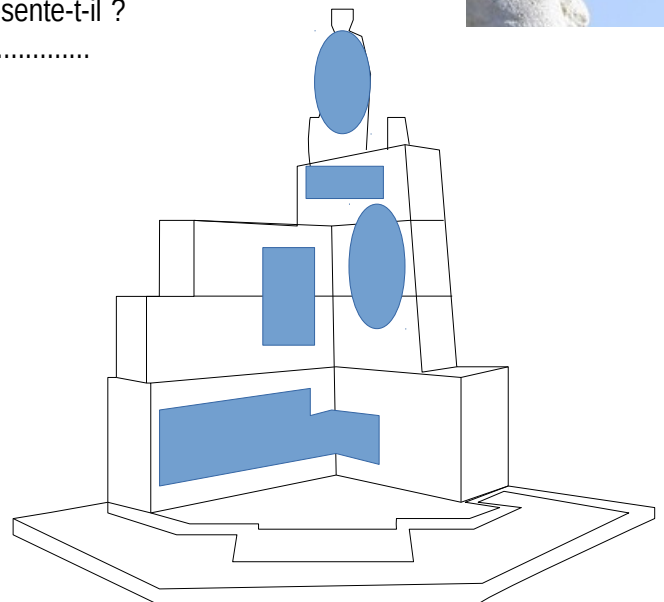

6] Recopie ci-dessous les noms et prénoms des deux Jarnacais martyrisés après leur capture au combat de Douvesse : Aide-toi des initiales.

P. A.

N. R.

7] Place les numéros en légende sur la reconstitution ci-contre.

- 1 : Statue
- 2 : Liste des exécutés
- 3 : Symbole de la Résistance
- 4 : Date clef
- 5 : Phrase commémorative

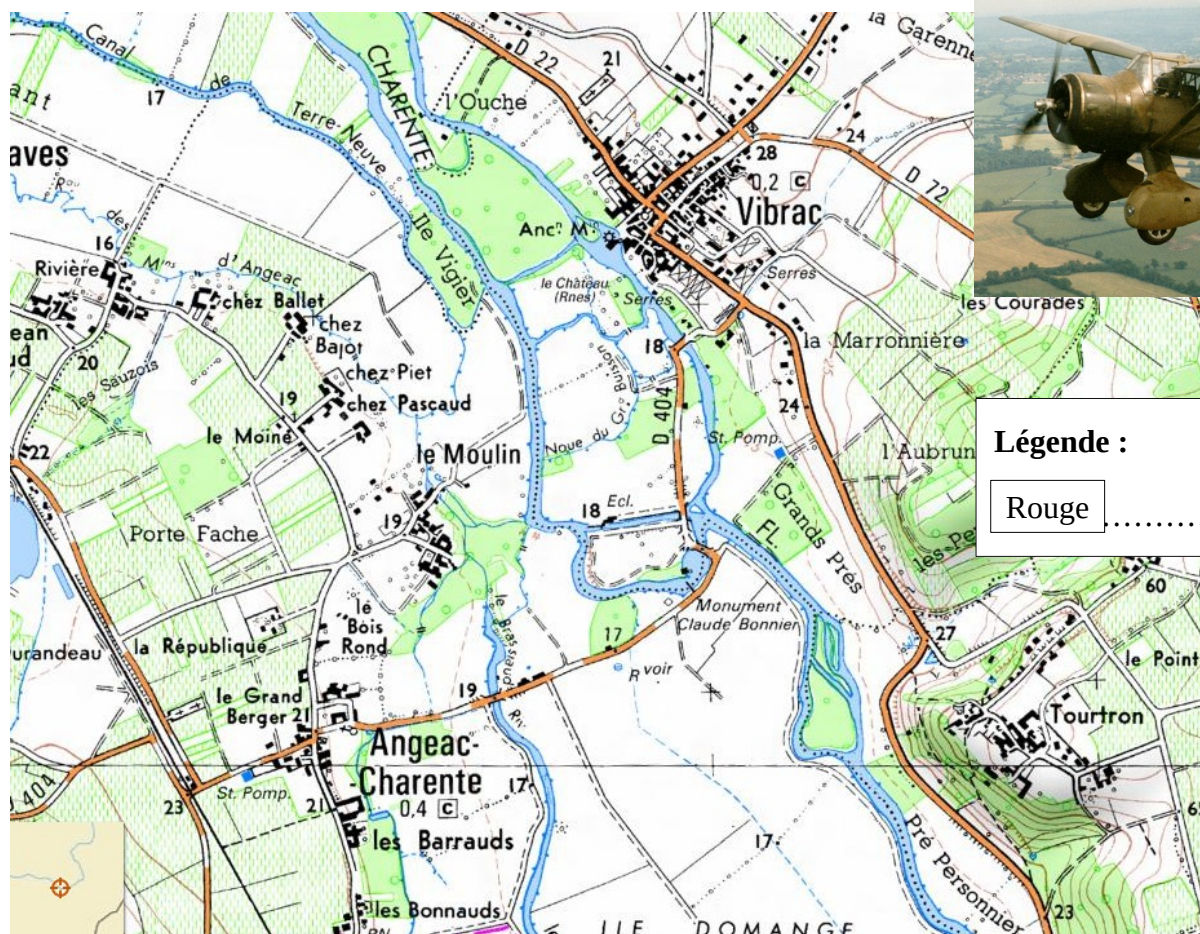


ÉPISODE N°3 : L'ATTERRISSAGE

Lieu de résistance n° 2 : un terrain d'atterrissage

Les secteurs d'Angeac et Vibrac ont été des lieux clefs pour des atterrissages et des parachutages d'acteurs de la Résistance. Claude Bonnier atterrit à Angeac-Charente à bord d'un avion britannique Lysander.

1] Tu dois préparer un atterrissage dans cette zone. Le terrain d'atterrissage est situé entre deux cours d'eau à une altitude variant de 17 à 18 m. Colorie le secteur d'atterrissage en rouge. Complète la légende.



Légende :

Rouge

ANECDOTE N°2 : l'arrivée de Claude Bonnier et de Jacques Nancy à Vibrac, réceptionné par René Chabasse.

2] Relie chaque acteur (à gauche) à sa mission (à droite)

Le Général De Gaulle		Chef du Bureau des Opérations Aériennes.
Claude Bonnier		Missionné pour unifier les mouvements de Résistance sur le territoire français, il fonde les Forces Françaises de l'Intérieur.
Jacques Nancy		Chef de la Résistance, supervisant l'organisation des F.F.L.
René Chabasse		D.M.R. (délégué militaire régional) pour la région Aquitaine
Jean Moulin		Commandant de la Section Spéciale de Sabotage.

3] Écris le nom des acteurs listés ci-dessus dans la case correspondante.

Échelle internationale / Europe :


Échelle nationale / France libre et France occupée :

Échelle régionale / Aquitaine :

Échelle locale / Charente :

Lieu de mémoire n° 2 : Vibrac, la stèle à Claude Bonnier

1] Complète la carte d'identité du Résistant Claude Bonnier en lisant le panneau de droite :

 <p>Claude Bonnier</p>	Dates de vie et de mort :	
	Sous les ordres de quelle personnalité de la Résistance s'engage-t-il ?	
	Date d'atterrissage à Angeac-Charente :	
	Surnom :	
	Métier :	
	Fonction dans la Résistance :	
	Missions en Charente (X 2) :	
	Nom et surnom de celui qui l'accompagne :	

2] Lis le panneau le plus à gauche et écris les réponses aux questions suivantes :

À qui ce monument rend hommage ?

Lt. J.R.G.

Lt. J.M.

Qui sont ces deux hommes ?

Quel était le nom de l'opération menée par ces deux hommes ?

Quel est le nom de code du lieu ?

Quel symbole de la Résistance représente le monument à Claude Bonnier ?



ÉPISODE 4 : L'EXÉCUTION CAPITALE

Lieu de mémoire n°3 : le monument aux fusillés de la Braconne (Brie)

La forêt de la Braconne abrite un camp militaire. Sous l'Occupation, une clairière de cette forêt a été le théâtre d'exécutions par des soldats S.S. de Résistants charentais condamnés à mort par un tribunal militaire siégeant au Palais de Justice d'Angoulême.

1] En t'aidant des panneaux explicatifs, complète le tableau ci-dessous en recherchant les informations manquantes.

Date du jugement	Date des fusillades	Nombre de Résistants fusillés	Nombre de Résistants graciés	Motif d'exécution ou Réseau de Résistance d'appartenance
30 avril 1943			50	« Appartenance à association illégale, complicité avec l'ennemi, actions de francs-tireurs et voies de fait contre la puissance occupante »
22 décembre 1943			13 2	O.C.M. (Organisation Civile et Militaire) F.T.P. (Francs-Tireurs et Partisans français)

2] Lis le document ci-contre :

3] A qui est adressé ce document ? Quel territoire cet agent dirige-t-il ?

Tribunal de la FeldKommandantur

Angoulême, le 15.1.1944

A Monsieur Le Préfet,

Les ressortissants français :

4] Surligne d'une couleur deux mots-clefs renvoyant à l'autorité du régime de Vichy.

5] Surligne d'une autre couleur deux mots-clefs renvoyant à l'autorité allemande occupante.

6] Qui est désigné par l'expression « aide à l'ennemi et autre » ?

- 1) Robert Geoffroy, né le 6.12.1911 à Taponnat, domicilié à Angoulême,
- 2) Francis Louvel, né le 4.10.1917, à Cognac, domicilié à La Couronne,
- 3) Armand Jean, né le 18.4.1905 à Toulon, domicilié à Ruelle,
- 4) Gérard Vandeputte, né le 4.12.1899 à Staden (Belgique), domicilié à Saulnières, Commune de Saint-Projet,

7] Observe la liste des fusillés de la Braconne ci-dessous. Quel lien peux-tu faire entre leur métier et leur engagement dans la Résistance ?

ont été condamnés à mort par jugement du Tribunal Militaire de la FeldKommandantur, du 22.12.1943, pour aide à l'ennemi et autre. Le jugement a été confirmé le 13.1.1944 par le Gouverneur Militaire en France et exécuté le 15.1.1944 par fusillade. La mort a été constatée par un médecin de l'armée allemande pour Geoffroy, Louvel et Jean à 15 heures 02, et pour Vandeputte à 15 heures 10.

P.O. (signature)

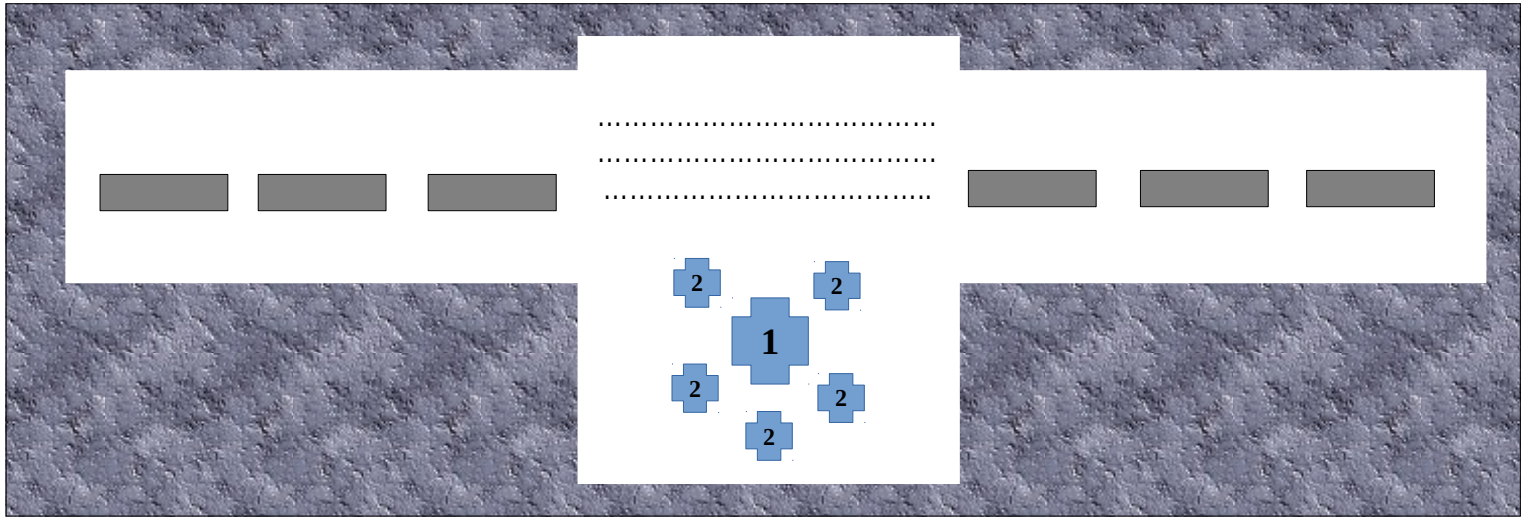
Jean Barrière	36 ans	Employé de mairie
Jean Gallois	33 ans	Ouvrier poudrier
Marc Népoux	22 ans	Forgeron
Marcel Népoux	20 ans	Menuisier
Paul Bernard	45 ans	Ouvrier poudrier
René Michel	32 ans	Technicien de l'aéronautique
Amédée Berque	32 ans	Ouvrier poudrier
Armand Jean	38 ans	Ajusteur
Francis Louvel	27 ans	Sous-officier aviateur
Gérard Vandeputte	45 ans	Cultivateur, employé municipal
Marcel Baud	30 ans	Cordonnier
Pierre Camus	44 ans	Employé des Postes, Télégraphes et Téléphones
Pierre Gaborit	31 ans	Employé des Postes, Télégraphes et Téléphones
Raymond Corbiat	37 ans	Employé des Postes, Télégraphes et Téléphones
René Gillardie	33 ans	Ouvrier d'industrie
Robert Geoffroy	33 ans	Plâtrier-peintre

7] Que représentent les symboles 1 et 2 sur le monument des fusillés de la Braconne ?

8] Marque d'une croix l'hommage à Armand Jean, un des fusillés de la Braconne, sur la reconstitution ci-dessous.

9] Recopie l'inscription à la mémoire des fusillés de la Braconne sur la reconstitution ci-dessous.

10] Quel qualificatif désigne l'ensemble des fusillés de la Braconne ?



11] Retrouve la photographie-indice ci-dessous et recopie l'intégralité de la phrase inscrite à cet endroit.

Indice : la table gravée



Armand Jean, de Ruelle, ouvrier à la poudrerie, est condamné pour une activité de Résistance. Il est condamné par le tribunal militaire et exécuté à la forêt de la Braconne. Voici la lettre qu'il écrit à sa femme le jour de son exécution.

Prison d'Angoulême, le 15 janvier 1944

Mon Adrienne de ma vie,

Quand tu recevras cette lettre, ma grande chérie adorée, je ne serai plus de ce monde, pardon ma Nini de la peine que je te cause, la mienne est immense, ne plus jamais, au grand jamais, te revoir, moi qui ne vivais que pour toi, et mes trois petits que j'aimais tant ; embrasse-les pour moi, mes chéris, mon Michel, ma Paulette, et ma petite Nenette. Je vais mourir sans peur, mais sois certaine que ma dernière pensée, la toute dernière, sera pour toi, et pour mes trois chéris. Je vais vous laisser dans la détresse, aide-toi, avec ma Maman chérie, toutes deux, essayez de vous aider à supporter cette grande douleur.

Retourne à Saint-Froult et là au milieu de ta famille et de la mienne, élève mes enfants dans l'honneur comme a toujours vécu leur père.

Mon Adrienne, je viens de recevoir les derniers sacrements, quel serrement de coeur affreux m'étreint, ton doux visage passe devant mes yeux. Adieu ma Chérie, adieu petits, pensez à celui qui vous a tant aimé. Adieu mon Adrienne Chérie. Ton petit mari si malheureux.

A. Jean

J'embrasse cette lettre pour la dernière fois.

Adieu ma grande Paulette.

Adieu mon grand Michel.

Adieu ma petite Nénette.



ÉPISODE 5 : LA SECTION

Lieu de Résistance n°2 : la ferme Duruisseau (Bouex)

La ferme Duruisseau est un haut lieu de la Résistance dans la région, car elle est située à proximité de la ligne de démarcation entre zone libre et zone occupée. Pourquoi ?


1] Quels sont les trois symboles de l'insigne présent sur le mur de la ferme Duruisseau ?

.....
.....
.....

2] Reproduis ces trois symboles dans le losange ci-contre.

3] Pourquoi cette ferme est-elle connue entre 1940 et 1944 ?


.....
.....
.....
.....
.....



Lieu de Mémoire n°3 : le musée de la ferme Duruisseau

4] Retrouve cette photographie-indice. Quelle était la phrase codée annonçant un parachutage de containers pour l'organisation de Résistance implantée à la ferme Duruisseau ?

.....
.....



5] Quel média a annoncé le parachutage ?

.....
.....

6] A quoi servait l'appareil photo exposé en vitrine ?

.....
.....

7] Relève deux objets qui témoignent d'actions de sabotage illustrées dans le musée.

.....
.....



8] Observe la photographie ci-contre. Entoure Jacques Nancy. Quel lien unit Jacques Nancy et Claude Bonnier ?

.....
.....