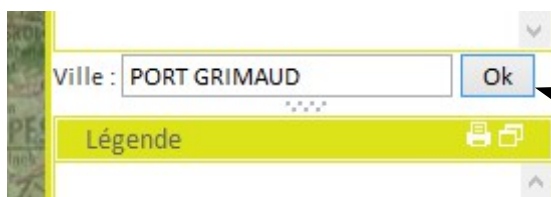


HABITER UN LITTORAL TOURISTIQUE : PORT-GRIMAUD
ETUDE DE CAS REALISE A PARTIR D'EDUGEO

① Localisation géographique :

Rechercher Port-Grimaud sur Edugéo :



Tape le nom de la ville à droite de ton écran.

Sélectionne Grimaud dans le Var 83310



Au bord de quelle mer se situe port-Grimaud ?

Dans quel golfe est situé Port-Grimaud ?

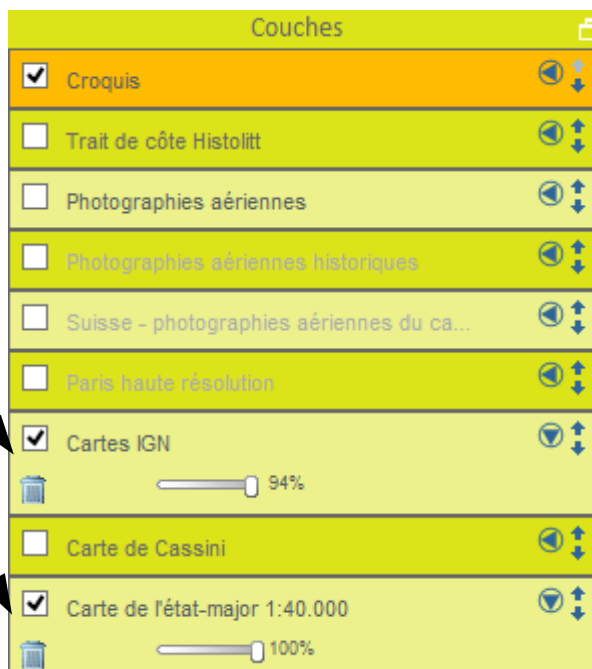
Quelles sont les trois principales communes situées à proximité de Port Grimaud ?

-
-
-

② Les transformations du littoral :

Pour étudier les transformations du littoral, coche les couches « carte IGN » et « carte de l'Etat-major » à gauche de l'écran :

En décochant successivement l'une des deux couches, tu pourras voir l'évolution du paysage entre 1900 et aujourd'hui.



Complète le tableau suivant en cochant les bonnes cases :

HABITAT	Existant en 1900 (carte Etat major)	Existant actuellement
Saint-Tropez		
Port-Grimaud		
St Maxime		
Cogolin		

Où l'habitat a-t-il le plus progressé entre 1900 et aujourd'hui ?

.....

Cite trois éléments qui sont apparus dans le paysage entre 1900 et aujourd'hui et qui facilite la circulation des personnes :

-
-
-

Cite cinq éléments qui sont apparus dans le paysage entre 1900 et aujourd'hui et qui sont liés à l'activité touristique :

-
-
-
-
-

③ **Etude du paysage actuel :**

.....

.....

.....

.....

La Côte d'Azur constitue sans doute un cas unique de **littoralisation**. Sur la côte, se succèdent, en dehors des villes **au front de mer** avec de grands hôtels, tous les types d'aménagements : villas fin XIXe, bâtiments kitch des années 1930 dans un décor de jardins, peu à peu détruits par des alignements d'immeubles, de **marinas** et de **ports de plaisance**. Derrière le littoral, un espace confus où se mêlent villas et immeubles résidentiels, zones commerciales, champs cultivés et espaces qui attendent souvent d'être transformés en lotissements. Sur les reliefs, les anciens villages ont été investis par des résidents fortunés qui ont fait construire de luxueuses villas. Cet ensemble ne s'étend pourtant pas très loin à l'intérieur des terres. Il y a un fort contraste entre ces espaces urbanisés et les montagnes environnantes, vides d'hommes.

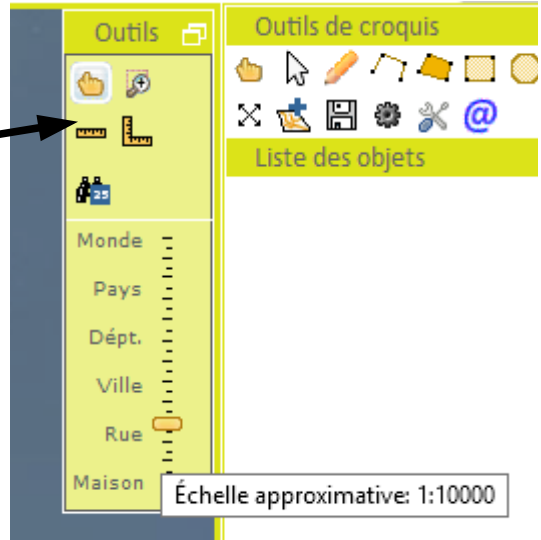
D'après Jacques Bethemont, *La Méditerranée en parta* ; a Documentation photographique, 2006, et *Géographie de la Méditerranée*, Armand Colin, 2008.



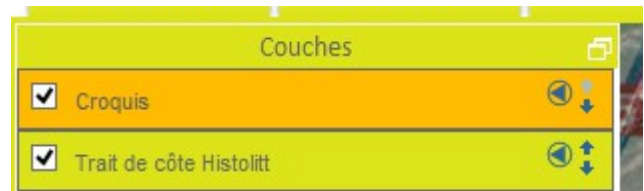
1. la route , 2. Marina, 3. Plage aménagée, 4. Port de plaisance, 5. Villas et immeubles résidentiels, 6. centre commercial, 7. Végétation et terrains en attente d'être construits, 8. Parkings pour autocars, 9. Champs cultivés, 10. Montagnes peu peuplées. 11. La Giscle (fleuve côtier)

→ Repère ce paysage sur Edugeo en ne sélectionnant que la couche « photographie aérienne » et l'échelle 1 : 10 000

Déplace toi pour cadrer au mieux afin de retrouver le paysage correspondant à la photographie.



→ Utilise maintenant les outils de croquis pour réaliser un croquis du littoral touristique de Port-Grimaud. Matérialise d'abord le littoral en choisissant la couche : « trait de côte histolitt »



Fais apparaître les éléments du tableau suivant sur ton croquis. Complète d'abord ce tableau. N'oublie pas de réaliser une légende au fur et à mesure de l'avancée de ton croquis.

	Éléments à placer	Figuré utilisé		Couleur
Habitat	Zone d'habitation	Ligne <input type="checkbox"/>	Polygone <input type="checkbox"/>	
	Montagne boisée et peu peuplée	Ligne <input type="checkbox"/>	Polygone <input type="checkbox"/>	
Aménagements touristiques	La marina	Ligne <input type="checkbox"/>	Polygone <input type="checkbox"/>	
	La plage aménagée	Ligne <input type="checkbox"/>	Polygone <input type="checkbox"/>	
	Le port de plaisance	Ligne <input type="checkbox"/>	Polygone <input type="checkbox"/>	
	Le fleuve côtier « La Giscle »	Ligne <input type="checkbox"/>	Polygone <input type="checkbox"/>	
	Parking pour autocars	Ligne <input type="checkbox"/>	Polygone <input type="checkbox"/>	
Voies de communication et économie	Les principales routes	Ligne <input type="checkbox"/>	Polygone <input type="checkbox"/>	
	Le centre commercial	Ligne <input type="checkbox"/>	Polygone <input type="checkbox"/>	
	Le parc d'activités du Grand Pont	Ligne <input type="checkbox"/>	Polygone <input type="checkbox"/>	
	Les champs cultivés	Ligne <input type="checkbox"/>	Polygone <input type="checkbox"/>	