

➤ **Sur quels secteurs repose cette hausse des exportations brésiliennes?**

La puissance agricole brésilienne.

Les exportations agroalimentaires du Brésil ont connu une croissance régulière depuis le milieu des années 1980, avec une véritable explosion depuis 2001. Entre 2001 et 2005, elles ont ainsi progressé de 16,3% par an en moyenne, cette augmentation ayant été encore plus soutenue, s'établissant à 26% par an, à destination de certains pays émergents, comme la Russie ou la Chine. [...] Le Brésil est parvenu, au fil des ans, en tête des exportations mondiales de soja, de sucre et d'éthanol*; de boeuf, de poulet, de tabac ou de jus d'orange.

[...] Ces **filières agroexportatrices** sont portées par de puissants groupes brésiliens, tels que le géant Brasil Foods [...] ou par des firmes transnationales d'origine étrangère très présentes au Brésil (Monsanto, Syngenta, unilever, Nestlé, Bunge, Danone, etc.)

« *Le Brésil, ferme du monde?* », géoconfluences, ens-Ish;fr, mai 2009.

* Alcool primaire servant à la fabrication de carburant appelé biocarburant.

Filières agro-exportatrices:

D'après le texte, quel secteur de l'économie brésilienne a permis au pays d'augmenter ses exportations?

Un exemple de la puissance industrielle et technologique brésilienne.

Le Brésil est l'un des leaders mondiaux dans le domaine de la construction aéronautique. Le constructeur national Embraer (Empresa brasileira de aeronautica*) est le troisième plus important au monde, après Boeing et Airbus, tant par le nombre de livraisons annuelles que par les effectifs de l'entreprise. Mieux, c'est le leader mondial dans le domaine des jets privés sur mesure. Au Brésil, Embraer fait partie des trois plus grosses entreprises exportatrices. [...] Embraer compte près de 24 000 employés et réalise un chiffre d'affaires annuel [...] de 3,3 milliards d'euros. [...] Elle dispose de bureaux commerciaux en France (à Villepinte), aux États-Unis, en Chine et à Singapour. [...] La plupart des grandes compagnies aériennes utilisent ces avions de fabrication brésilienne.

L.Guérinaud, lepetitjournal.com, Sao paulo, 14 janvier 2009.

- Entreprise brésilienne d'aéronautique.

Souligne dans le texte, les éléments qui montrent que l'entreprise Embraer est une industrie qui a sa place dans la mondialisation.

Compétence :	Je m'évalue	Professeur
☞ Je sais analyser un texte:	<input type="checkbox"/>	<input type="checkbox"/>

❑ Quel poids joue le Brésil sur la scène internationale?

Cinquième pays du monde par sa population et sa dimension, avec un produit intérieur brut (PIB) représentant environ les deux tiers de celui de l'Amérique du sud et le douzième du monde, le Brésil est considéré comme une grande puissance économique régionale et mondiale.

Le début du XXIe siècle voit le Brésil se consolider en tant qu'acteur mondial, en partie grâce à son rôle au sein de l'Organisation mondiale du commerce (OMC) et à sa participation constante aux missions de maintien de la paix de l'ONU. Leader du **Marché commun du Sud (Mercosur)**, le Brésil a pris la tête d'un combat pour une mondialisation plus conforme aux intérêts des pays en développement.

O.Dabène, Atlas de l'Amérique latine, Editions Autrement, Paris, 2009.

Marché commun du Sud (Mercosur) :

.....

.....

.....

.....

.....



Le sommet du G20 à Séoul, 11-12 novembre 2010.

« Shared Growth Beyond Crisis », c'est-à-dire «Partage de la croissance au-delà de la crise ». La crise a imposé la recherche d'une nouvelle gouvernance économique mondiale. Réuni à Séoul, le

.....

.....

Compétence :	Je m'évalue	Professeur
☞ <i>Je sais analyser différents langages (texte, photographie)</i>	<input type="checkbox"/>	<input type="checkbox"/>

Après avoir lu le texte et observé la photographie, , complète le tableau suivant qui permet de mieux comprendre le rôle joué par le Brésil sur la scène internationale.

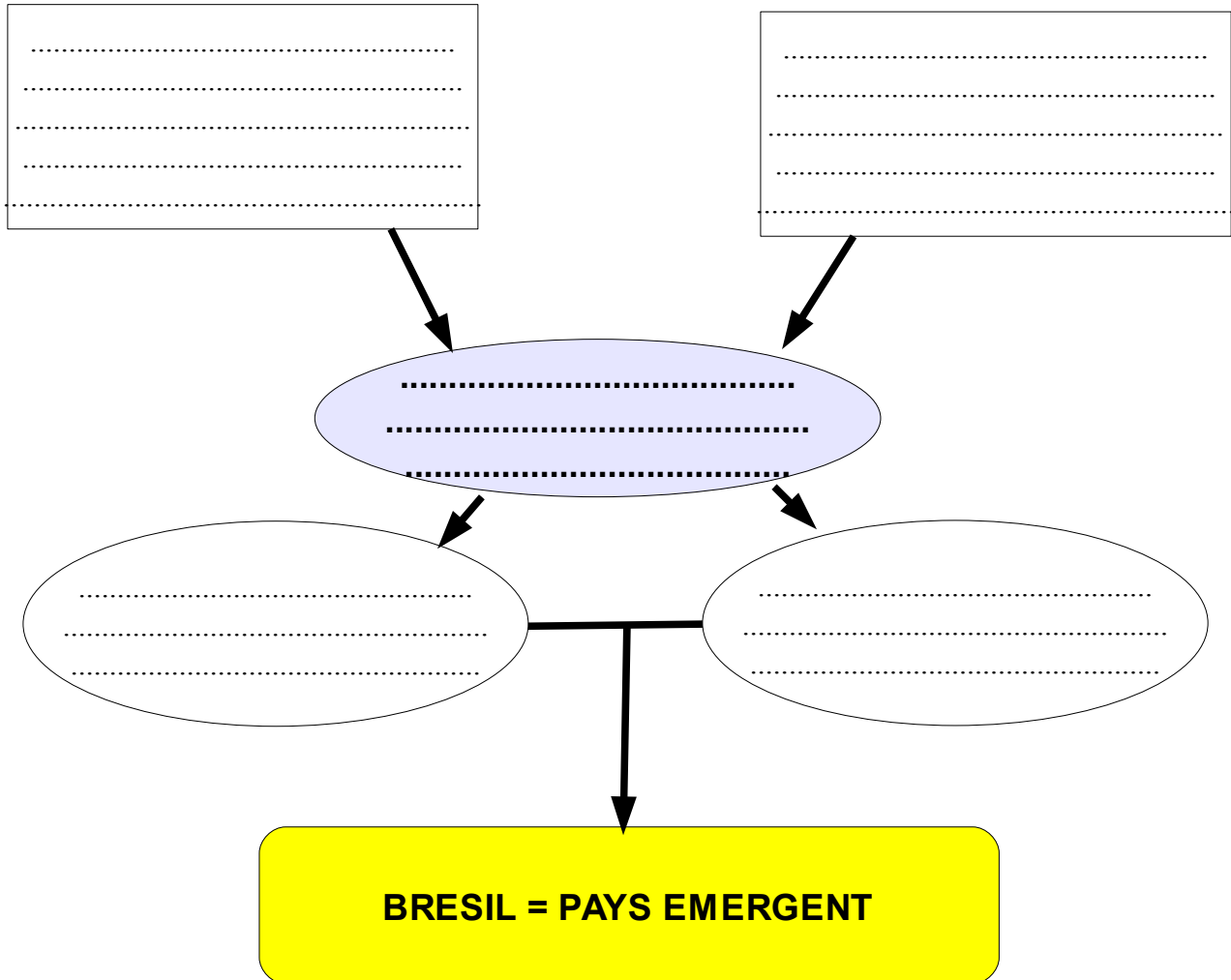
	Éléments montrant que le Brésil est un acteur mondial
Population et superficie du pays	
PIB	
Rôle dans les organisations Mondiales	
Capacité à organiser son espace régional (Amérique)	

Compétence :	Je m'évalue	Professeur
☞ <i>Je sais classer les informations:</i>	<input type="checkbox"/>	<input type="checkbox"/>

QUELLE PLACE OCCUPE LE BRESIL DANS LA MONDIALISATION?

Place les groupes de mots suivants dans l'organigramme:

Exportations en forte hausse / CROISSANCE ECONOMIQUE FORTE ET RAPIDE / Volonté de jouer un rôle politique mondial / Nombreux investissements en provenance de l'étranger / Insertion dans l'économie mondiale



.....

.....

.....

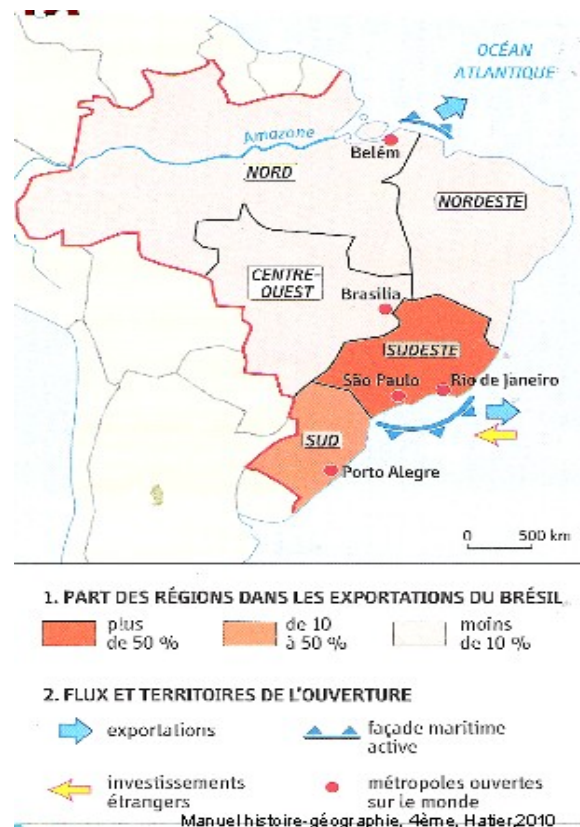
.....

.....

Compétence :	Je m'évalue	Professeur
<i>☞ Je comprends le monde par une première approche de la mondialisation:</i>	<input type="checkbox"/>	<input type="checkbox"/>

Des inégalités de développement au sein du pays.

Observe et analyse les documents afin de pouvoir compléter le tableau qui permettra de caractériser les différentes régions du Brésil.



Le Brésil : la mise en valeur du territoire

Plus grande forêt de la planète, l'Amazonie regorge de ressources naturelles. Le gouvernement brésilien met en valeur cet immense territoire. Les fronts pionniers permettent des gains de surfaces agricoles mais la déforestation est très rapide, ayant un impact négatif sur l'environnement.

Manuel numérique, histoire-géographie, 4ème, Bordas, 2011



Cette région est la principale réserve de main d'œuvre du pays. Sa proximité géographique avec le littoral très dynamique lui permet d'attirer des investissements et de connaître les prémices d'un essor économique. L'exode rural est fort vers les grands centres urbains ainsi que vers les régions amazoniennes.

Manuel numérique, histoire-géographie

Le triangle formé par São Paulo (la plus grande agglomération du pays), Rio de Janeiro et Belo Horizonte concentre la plus grande partie de la production industrielle et de l'activité financière. Il attire les IDE des grandes firmes mondiales.

Manuel numérique, histoire-géographie, 4ème, Bordas, 2011

	NORD	NORDESTE	CENTRE OUEST	SUD/SUDESTE
IDH / habitant				
Importance de la région dans les exportations du Brésil				
Ouverture vers l'extérieur				
Occupation du territoire				



.....

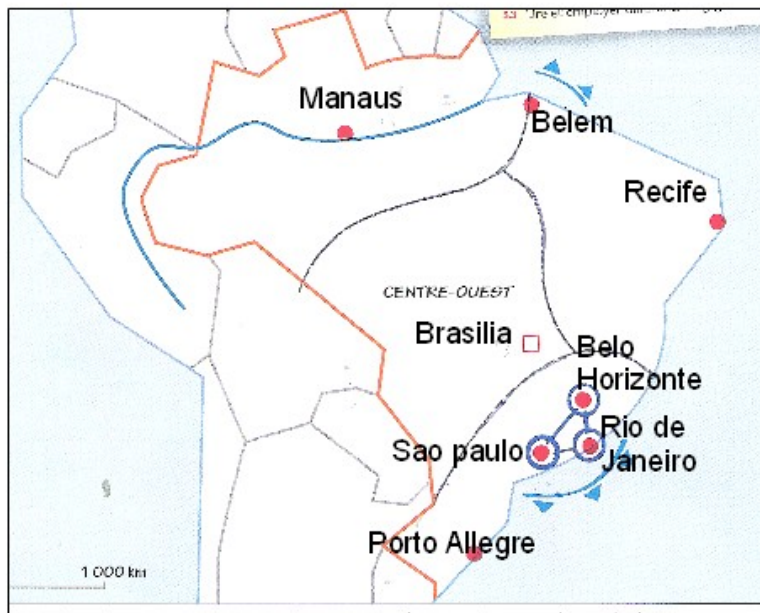
.....

.....

.....

Compétence :	Je m'évalue	Professeur
👉 Je sais classer les informations :	<input type="checkbox"/>	<input type="checkbox"/>

L'ORGANISATION DU TERRITOIRE BRÉSILIEN



1- Les territoires ouverts sur le monde.

- Région très dynamique intégrée à la mondialisation.
-
-
-

2- L'intérieur associé à l'essor économique.

- Région d'agriculture commerciale
- Flux interne de population

3- Les régions à l'écart de la mondialisation.

- Le Nordeste, région pauvre et marginalisée
- L'Amazonie, isolée mais de plus en plus convoitée
- Front pionnier

Compétence :	Je m'évalue	Professeur
👉 Je sais réaliser un croquis :	<input type="checkbox"/>	<input type="checkbox"/>

En t'aidant du travail que tu viens de réaliser, réalise un texte qui explique comment la mondialisation a entraîné des inégalités spatiales au Brésil.

Après avoir fait une phrase d'introduction,

1- Explique où se situe le territoire ouvert sur la mondialisation, Pourquoi est-ce un territoire intégré à la mondialisation?

2- Caractérise l'intérieur qui est associé au développement économique du pays.

3- Caractérise les régions à l'écart de la mondialisation.

Compétence :	Je m'évalue	Professeur
↳ Je sais décrire les effets de la mondialisation sur le territoire brésilien.	<input type="checkbox"/>	<input type="checkbox"/>

En t'aidant du travail que tu viens de réaliser, réalise un texte qui explique comment la mondialisation a entraîné des inégalités spatiales au Brésil.

Après avoir fait une phrase d'introduction,

1- Explique où se situe le territoire ouvert sur la mondialisation, Pourquoi est-ce un territoire intégré à la mondialisation?

2- Caractérise l'intérieur qui est associé au développement économique du pays.

3- Caractérise les régions à l'écart de la mondialisation.

Compétence :	Je m'évalue	Professeur
↳ Je sais décrire les effets de la mondialisation sur le territoire brésilien.	<input type="checkbox"/>	<input type="checkbox"/>

En t'aidant du travail que tu viens de réaliser, réalise un texte qui explique comment la mondialisation a entraîné des inégalités spatiales au Brésil.

Après avoir fait une phrase d'introduction,

1- Explique où se situe le territoire ouvert sur la mondialisation, Pourquoi est-ce un territoire intégré à la mondialisation?

2- Caractérise l'intérieur qui est associé au développement économique du pays.

3- Caractérise les régions à l'écart de la mondialisation.

Compétence :	Je m'évalue	Professeur
↳ Je sais décrire les effets de la mondialisation sur le territoire brésilien.	<input type="checkbox"/>	<input type="checkbox"/>

Des inégalités socio-spatiales au sein des métropoles .

Favela Morumbi à Sao Paulo (Brésil)



.....

.....

.....

Compétence :	Je m'évalue	Professeur
☞ Je sais analyser une photographie:	<input type="checkbox"/>	<input type="checkbox"/>

Les différentes catégories sociales au Brésil.
 Les Brésiliens de classe moyenne qui représentaient 42,5% de la population en 2003, au début du premier mandat du président Luiz Inacio Lula da Silva, sont aujourd'hui 52% des 187 millions d'habitants du pays [...]. Quant aux très riches, ils ont également augmenté en moindre proportion, passant de 11,6% en 2003 à 15,5% aujourd'hui. En revanche, le nombre de pauvres a nettement diminué dans la période, passant de 46 en 2003 à 32,5% aujourd'hui. Pour la première fois depuis plusieurs décennies, le nombre de Brésiliens appartenant à la classe moyenne devance celui des plus pauvres. [...] Les progrès sont dus à la croissance économique du pays et aux programmes sociaux mis en place par le gouvernement.
 AFP/Cyberpresse, 14 août 2008.

Aide-toi du texte pour compléter le tableau suivant:

	2003	2008
Riches		
Classes moyennes		
pauvres		

Que remarques-tu?

.....

Souligne dans le texte, ce qui explique les améliorations du niveau de vie brésilien.

Compétence :	Je m'évalue	Professeur
☞ Je sais classer des informations:	<input type="checkbox"/>	<input type="checkbox"/>

□ Etude du planisphère p 334 : LA MONTEE EN PUISSANCE DES PAYS EMERGENTS

A l'aide du planisphère étudié, classe dans le tableau les différents types de pays émergents.

LES DIFFERENTS TYPES DE PAYS EMERGENTS

	Noms des pays concernés
Puissances émergentes majeures	
Les « nouveaux pays industriels d'Asie » NPIA	
Producteurs de pétrole	
Pays industriel anciennement socialiste	
Autres pays émergents	

☞ Etude du planisphère p 334 : LA MONTEE EN PUISSANCE DES PAYS EMERGENTS

A l'aide du planisphère étudié, classe dans le tableau les différents types de pays émergents.

LES DIFFERENTS TYPES DE PAYS EMERGENTS

	Noms des pays concernés
Puissances émergentes majeures	
Les « nouveaux pays industriels d'Asie » NPIA	
Producteurs de pétrole	
Pays industriel anciennement socialiste	
Autres pays émergents	