

Baccalauréat Professionnel
Électrotechnique, énergie, équipements communicants
EPREUVE E2 : Étude d'un ouvrage

SESSION 2009

OPTIMISATION DE L'ECLAIRAGE
DU CENTRE HOSPITALIER DE NEVERS



Cette épreuve comporte :

- Le sujet « tronc commun », composé par tous les candidats**
- Le sujet « Approfondissement du champ d'application Habitat Tertiaire »**
- Le sujet « Approfondissement du champ d'application Industriel »**

Le candidat doit remplir le tableau ci dessous correspondant au sujet « approfondissement » qu'il a choisi.

A remplir par le candidat
Je choisi l'approfondissement champ d'application :
<i>Compléter par la mention : habitat-tertiaire ou industriel</i>

ATTENTION : Dans tous les cas, ne sera corrigé et noté que le seul sujet approfondissement du champ d'application choisi par le candidat

Baccalauréat Professionnel Électrotechnique, énergie, équipements communicants			
Épreuve : E2	SUJET	0906-EEE EO	Durée : 5 heures
			Coefficient : 5
			Page : 1/ 30

BAREME GENERAL

TRONC COMMUN

Partie A : COMMANDE DE L'ECLAIRAGE

Notation : / 60	Temps conseillé : 1 h 30
-----------------	--------------------------

Partie B : DISTRIBUTION

Notation : / 40	Temps conseillé : 1 h
-----------------	-----------------------

Partie C : COMMUNICATION DES TGBT

Notation : / 40	Temps conseillé : 1 h
-----------------	-----------------------

APPROFONDISSEMENT DU CHAMP D'APPLICATION HABITAT TERTIAIRE

Partie D: ECLAIRAGE DES VOIES DE CIRCULATION

Notation : / 60	Temps conseillé : 1 h 30
-----------------	--------------------------

APPROFONDISSEMENT DU CHAMP D'APPLICATION INDUSTRIEL

Partie E : ETUDE DES CENTRALES DE TRAITEMENT D'AIR

Notation : / 60	Temps conseillé : 1 h 30
-----------------	--------------------------

<u>EPREUVE E2</u> : TRONC COMMUN + APPROFONDISSEMENT DU CHAMP D'APPLICATION CHOISI
--

/ 200

Baccalauréat Professionnel Électrotechnique, énergie, équipements communicants

Épreuve : E2

SUJET

0906-EEE EO

Durée : 5 heures

Coefficient : 5

Page : 2/ 30

OPTIMISATION DE L'ECLAIRAGE DU CENTRE HOSPITALIER DE NEVERS

L'étude portera sur l'optimisation de l'éclairage d'un pôle du centre hospitalier afin de réaliser des économies d'énergie.

Objectifs de cette étude :

Partie A : La modification de la commande d'éclairage et le contrôle des zones éclairées nécessitent la mise en place d'un micro automate modulaire. On vous demande de :

- **Justifier** les différents éléments constituant l' A.P.I. et les contacteurs commandant l'éclairage.
- **Établir** le schéma de raccordement de l'A.P.I. et des contacteurs.
- **Compléter** les chronogrammes de fonctionnement afin de faciliter la programmation de l'A.P.I.
- **Proposer** un planning d'intervention pour la réalisation de la modification de la commande d'éclairage.

Partie B : La modification de la commande de l'éclairage niveau N1 se fait en partie dans le tableau de distribution repéré TD 4N. La connaissance de l'alimentation du tableau est nécessaire.

On vous demande de :

- **S'informer** du schéma de liaison à la terre utilisé.
- **Vérifier** par le calcul les conditions de déclenchement des protections.

La mise en service à heure fixe d'une partie importante des luminaires engendre une variation de la puissance réactive consommée. De plus, les lampes utilisées polluent le réseau. Il faut vérifier que ces perturbations sont acceptables pour le matériel installé. On vous demande de :

- **Calculer** la consommation de puissance réactive des luminaires des chemins lumineux.
- **Proposer** un module de compensation compte tenu de la pollution du réseau.

Partie C : Le contrôle de la consommation de l'éclairage par la supervision de la GTC nécessite la mise en réseau des centrales de mesure des TGBT avec l'A.P.I. « maître courants forts » relié au PC de la GTC.

On vous demande de :

- **Faire** l'inventaire des liaisons et des protocoles déjà utilisés par l' A.P.I. « maître courants forts ».
- **Choisir** le matériel nécessaire au raccordement des centrales de mesure au réseau.
- **Établir** le schéma de raccordement d'une centrale de mesure.

Partie D : La modification de la commande de l'éclairage et le remplacement des lampes à décharge par des lampes fluo-compactes doivent être faits dans le respect des normes d'éclairage en milieu hospitalier.

On vous demande de :

- **Calculer** l'éclairement avant modification.
- **Vérifier** que les modifications permettent d'avoir un éclairement dans les normes.
- **Choisir** les lampes fluo-compactes en remplacement des lampes à décharge.
- **Inform**er de la pollution du réseau engendrée par l'utilisation des lampes fluo-compactes.

Partie E : Les personnes chargées de l'optimisation de l'éclairage doivent aussi assurer la maintenance des centrales de traitement d'air. Pour réaliser des interventions rapides, elles doivent connaître parfaitement les installations de traitement d'air. On vous demande de :

- **Vérifier** le dimensionnement et la référence des appareils utilisés (centrale, moteur, variateur)
- **Décoder** les schémas existants.
- **Vérifier** le paramétrage du variateur.

**Baccalauréat Professionnel
Électrotechnique, énergie, équipements communicants**

EPREUVE E2 : Étude d'un ouvrage

SESSION 2009

Sujet : tronc commun

Baccalauréat Professionnel Électrotechnique, énergie, équipements communicants			
Épreuve : E2	SUJET	0906-EEE EO	Durée : 5 heures
			Coefficient : 5
			Page : 4/ 30

L'étude portera sur la commande par un automate Zélio marque Schneider, de l'éclairage :

- de la voie de circulation GEN 1556 donnant accès aux salles de consultations niveau 1 pôle C,
- de la voie GEN 1554 des parties communes.

Ressources :

- Dossier technique pages 3/35 à 10/35
- Dossier ressources pages 19/35 et 20/35

A 1. REFERENCE DE L'AUTOMATE

Choisir les éléments de l'A.P.I. Zélio permettant d'avoir la configuration suivante :

- au minimum 9 entrées et 15 sorties TOR,
- possibilité de programmer des horloges,
- communication par le réseau éthernet de l'état des zones éclairées au PC de la GTC.

Remarque : le module de communication et l'A.P.I. doivent avoir la même tension d'alimentation.

DESIGNATION	REFERENCE

Quel câble faut-il utiliser pour effectuer la liaison avec le switch de la supervision ? *Cocher la case*

Câble droit	
-------------	--

Câble croisé	
--------------	--

Justifier votre réponse.

.....

.....

Quel est le protocole utilisé par le réseau éthernet ?

Réponse :

Comment peut-on identifier cet équipement sur le réseau ?

Réponse :

A 2. CHOIX DES CONTACTEURS DE COMMANDE D'ECLAIRAGE

L'utilisation de contacteurs est nécessaire pour avoir une coupure bipolaire (sécurité pour la maintenance). Choisir un contacteur qui répond à cette exigence.

Relever sur les schémas la puissance la plus élevée contrôlée par un contacteur. Indiquer le repère de ce contacteur.

Repère du contacteur :	S =
------------------------	-----

En déduire le courant absorbé

FORMULE	APPLICATION NUMERIQUE	RESULTAT
I =	I =	I =

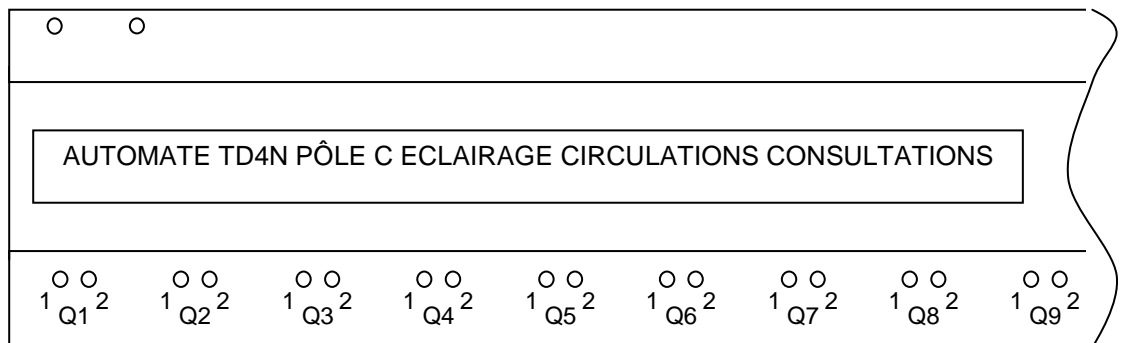
Donner la référence des contacteurs modulaires matériel Merlin Gérin à installer.

Référence : Caractéristiques : type : calibre : tension bobine :

A 3. RACCORDEMENT DE L'AUTOMATE

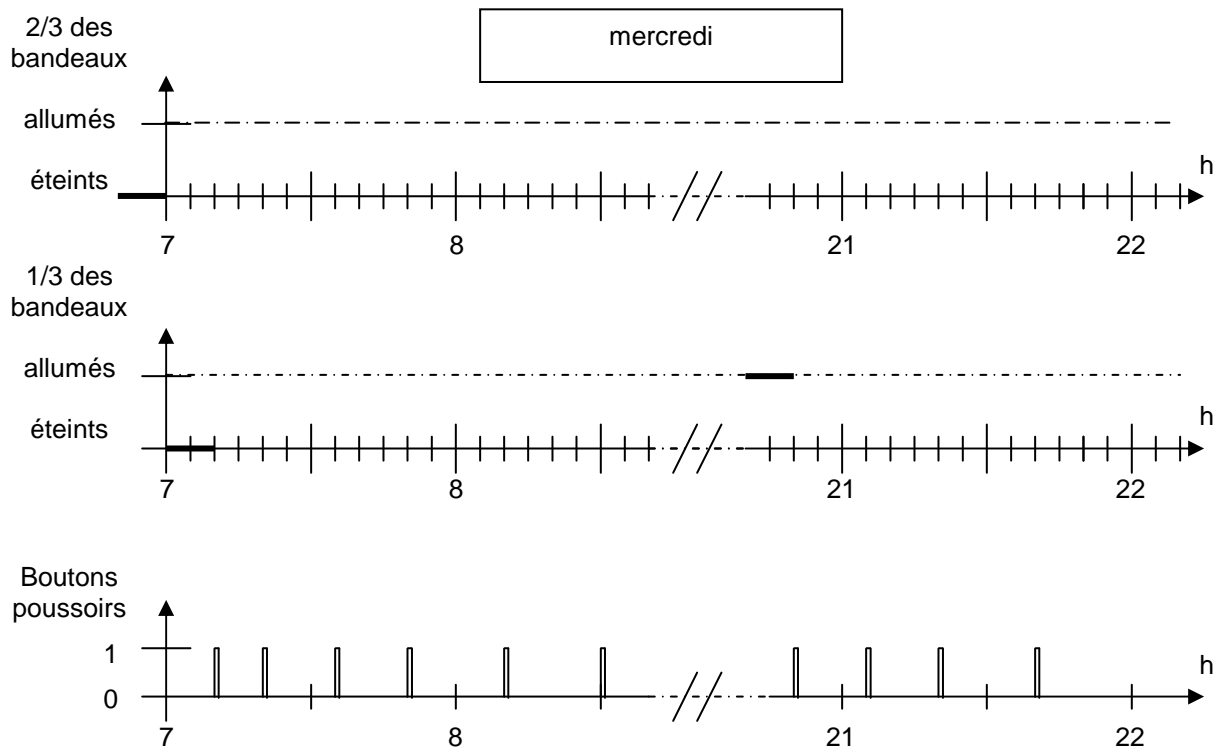
Raccorder uniquement les contacteurs commandant l'éclairage des voies de circulation GEN 1556 et GEN 1554 aux sorties de l'automate. Le repérage des appareils doit être conforme aux schémas existants. La protection du circuit contacteurs est assurée par un disjoncteur repéré Qde020.

N | Ph
| |



A 4. CHRONOGRAMMES

Compléter les chronogrammes suivants correspondants au fonctionnement des bandeaux lumineux de la voie de circulation GEN 1556 donnant accès aux salles de consultations.



A 5. PLANNING D'INTERVENTION

La réalisation de la modification de la commande de l'éclairage est programmée sur 2 semaines consécutives. La responsabilité du chantier est confiée à une personne de l'équipe qui surveille les centrales de traitement d'air.

La 1^{ère} semaine est consacrée à l'implantation de nouveaux boutons poussoirs, passage des câbles en faux plafond et mise en attente dans le tableau de distribution TD4N. Une personne de l'équipe qui surveille les centrales de traitement d'air vient seconder au minimum 4 jours la personne responsable du chantier.

La 2^{ème} semaine, la personnes responsable du chantier continue le travail avec l'implantation de l'automate, des contacteurs, modification du câblage et raccordement des nouveaux boutons poussoirs. Cette tâche doit être menée pendant 5 jours consécutifs. En fin de semaine, cette personne doit être rejointe par un spécialiste des courants faibles pour la liaison avec la supervision du poste de sécurité incendie. Cette personne doit avoir la possibilité de travailler jusqu'à 20 h.

Baccalauréat Professionnel Électrotechnique, énergie, équipements communicants			
Épreuve : E2	SUJET	0906-EEE EO	Durée : 5 heures
			Coefficient : 5
			Page : 7/ 30

A 5.1. Établir le planning de cette intervention.

- Préciser :
- les semaines choisies pour travailler sur ce chantier,
 - le prénom des salariés intervenants,
 - la spécialité des salariés,
 - l'horaire effectué (utiliser le code correspondant).

ne pas compléter les cases grisées

		Semaine : <input type="text"/>							Semaine : <input type="text"/>						
Salarié	Spécialité	lun	mar	mer	jeu	ven	sam	dim	lun	mar	mer	jeu	ven	sam	dim

A 5.2. Établir le planning de la surveillance des centrales de traitement d'air.

Pendant cette intervention, nommer la personne chargée d'intervenir en cas de problème sur les centrales de traitement d'air.

Planning 1^{ère} semaine :

Journée	Lundi	Mardi	Mercredi	Jeudi	Vendredi
Salarié					

Planning 2^{ème} semaine :

Journée	Lundi	Mardi	Mercredi	Jeudi	Vendredi
Salarié					

La modification de la commande de l'éclairage niveau N1 se fera en partie dans le tableau de distribution repéré TD 4N. L'étude portera sur le raccordement de ce tableau au TGBT P4 par la colonne montante E4.

Ressources :

- Dossier technique pages 5, 11 et 12/35
- Dossier ressources pages 21/35 et 22/35

B 1. SCHEMA DE LIAISON A LA TERRE

B 1.1. Relever sur les schémas fournis le type de schéma de liaison à la terre utilisé dans le TGBT4.

Expliquer la signification des lettres.

1 ^{ère} lettre		
2 ^{ème} lettre		
3 ^{ème} lettre		

Que se passe-t-il en cas de défaut d'isolement sur un appareil et par quels moyens assure-t-on la protection des personnes et de l'installation ?

Réponse :

.....

.....

.....

.....

B 1.2. Vérifier par le calcul les conditions de déclenchement des protections.

Le calcul consiste à vérifier que la longueur du circuit est inférieure à une longueur maximale.

Relever sur le schéma unifilaire de la cellule 9 pour la colonne montante E4 alimentant le tableau de distribution TD4N les indications suivantes :

Cocher la case

Réglage I_{Magn}		Cuivre		Aluminium	
Section des phases		Section PE			

Calcul de la longueur maximale du circuit :

FORMULE	APPLICATION NUMERIQUE	RESULTAT
$L_{MAX} = \frac{0,8 \times V \times S_{ph}}{\rho \times (1 + m) \times I_{magn}}$	$L_{MAX} =$	$L_{MAX} =$

L_{MAX} : longueur maximale en mètre V : tension simple du réseau S_{ph} : section des conducteurs de phase

ρ : résistivité $22,5 \cdot 10^{-3} \Omega \times mm^2 / m$ pour le cuivre, $36 \cdot 10^{-3} \Omega \times mm^2 / m$ pour l'aluminium

m : S_{ph} / S_{PE} section des conducteurs de phase divisée par la section du conducteur de protection

I_{magn} : courant de réglage du déclencheur magnétique du disjoncteur.

Relever la longueur de la ligne et conclure sur la conformité ou la non conformité de l'installation.

Longueur de la ligne	
----------------------	--

Conclusion :
.....
.....

B 2. MISE SOUS TENSION DES BANDEAUX LUMINEUX NIVEAU N1

La mise en service à heure fixe d'une partie importante des luminaires engendre une variation de la puissance réactive consommée.

L'étude portera sur le calcul de la puissance réactive consommée par les luminaires des chemins lumineux.

Les tubes fluorescents ne sont pas compensés individuellement pour éviter la surintensité à l'allumage. Pour améliorer le facteur de puissance de l'installation, la compensation est centralisée dans les TGBT.

Les chemins lumineux totalisent 66 tubes de 58 W et 48 tubes de 36 W. Le facteur de puissance des tubes de 58 W est de 0,4 en moyenne et celui des tubes de 36 W est de 0,5 en moyenne.

Calculer la puissance réactive consommée par l'ensemble des tubes de 58 W.

FORMULE	APPLICATION NUMERIQUE	RESULTAT
$Q_1 =$	$Q_1 =$	$Q_1 =$

Calculer la puissance réactive consommée par l'ensemble des tubes de 36 W.

FORMULE	APPLICATION NUMERIQUE	RESULTAT
$Q_2 =$	$Q_2 =$	$Q_2 =$

Calculer la puissance réactive consommée durant la journée par les 2/3 des chemins lumineux niveau N1 alimentés par le tableau de distribution TD4N.

FORMULE	APPLICATION NUMERIQUE	RESULTAT
$Q_{N1} =$	$Q_{N1} =$	$Q_{N1} =$

Par quel moyen compense-t-on la puissance réactive globale au niveau du TGBT P4 ?

Réponse :

.....

Quels auraient été les avantages de faire une compensation de puissance réactive partielle dans le tableau TD4N ?

Réponse :

.....

B 3. CHOIX DU MODULE DE COMPENSATION

Le taux de distorsion en courant harmonique THD(I) au niveau du TGBT P4 est de 15,4 % pour une charge de 650 KVA au moment de la mesure.

Choisir le type d'équipement Merlin Gérin de compensation adapté au niveau de pollution harmonique du réseau. La pollution est due essentiellement à l'éclairage et aux centrales de traitement d'air.

FORMULE	APPLICATION NUMERIQUE	RESULTAT

Conclusion :

L'analyse harmonique jusqu'au rang 15 du courant dans une phase a donné les résultats suivants :

Remarque : les harmoniques de rang pair sont négligeables.

I_1	I_3	I_5	I_7	I_9	I_{11}	I_{13}	I_{15}
100 %	2,8 %	12,4 %	6,8 %	4,4 %	1,2 %	2,4 %	0,4%

Relever les rangs des 2 principaux courants harmoniques. Préciser la fréquence de ces harmoniques.

Rang :		
Fréquence:		

Choisir la fréquence d'accord des selfs antiharmoniques.

Fréquence d'accord :

En déduire la référence d'un module de compensation sans jeu de barres Merlin Gérin qui convient pour cette installation.

Puissance réactive compensée par module :

Référence :

Un automate maître placé dans le bâtiment production d'énergie communique avec les éléments suivants :

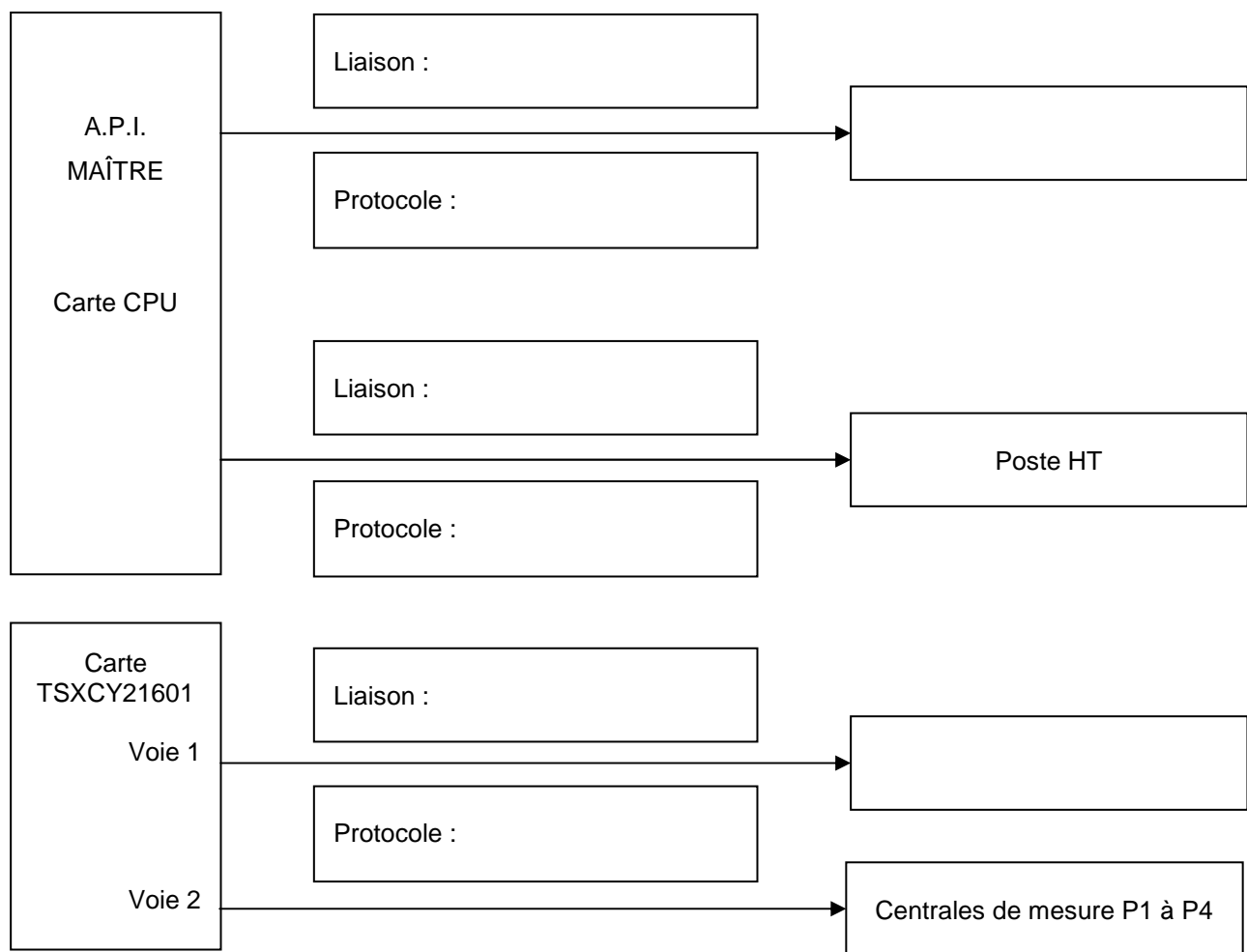
- Les automates des 4 TGBT.
- Le poste HT.
- La supervision de la GTC.

Ressources :

- Dossier technique pages 13/35 et 14/35
- Dossier ressources pages 23/35 à 25/35

C 1. INVENTAIRE DES LIAISONS ET DES PROTOCOLES UTILISES

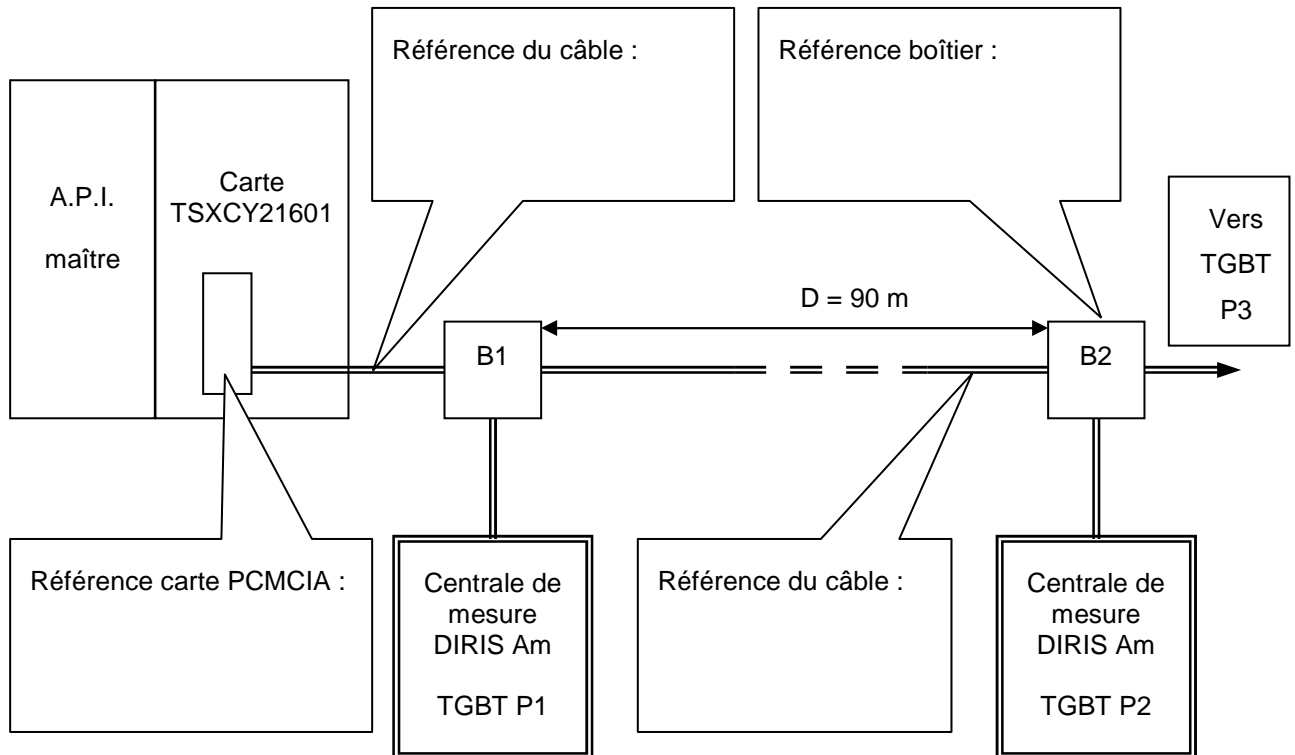
Compléter le synoptique ci-dessous.



C 2. RACCORDEMENT DES CENTRALES DE MESURE

La centrale de mesure DIRIS Am de Socomec possède une liaison RS485 protocole JBUS/MODBUS.

C 2.1. Définir le matériel nécessaire pour le raccordement sur la 2^{ème} voie de communication de la carte TSXCY 21601.



C 2.2. Donner les caractéristiques principales du câble utilisé entre les boîtiers B1 et B2.

.....

C 2.3. Donner les caractéristiques de communication de la centrale de mesure.

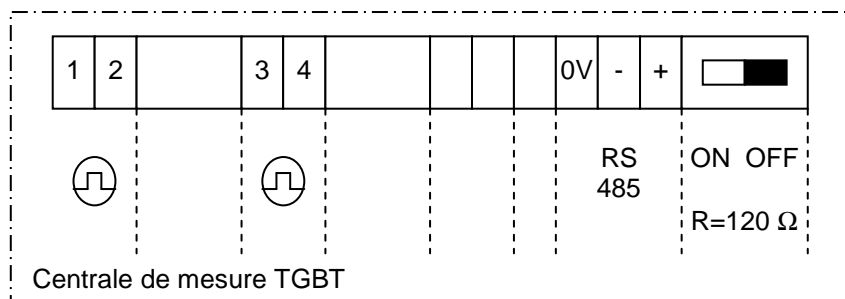
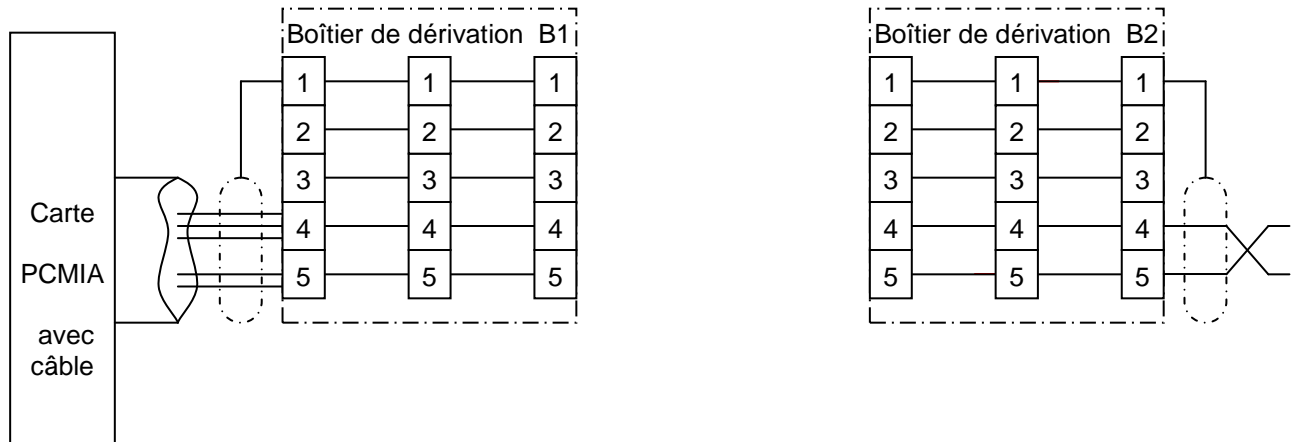
Standard de la liaison :		Liaison série		Liaison parallèle	
--------------------------	--	---------------	--	-------------------	--

Vitesse de transmission	1 baud =
-------------------------	----------

Signification de Half duplex :
.....

C 2.4. Proposer le raccordement entre les boîtiers B1 et B2 et le raccordement de la centrale de mesure du TGBT P2.

Faire apparaître le raccordement du blindage des câbles et des conducteurs torsadés.



C 2.5. Donner la position des interrupteurs des centrales de mesures des TGBT.

Cocher la case correspondant à la position de l'interrupteur.

TGBT P1		TGBT P2		TGBT P3		TGBT P4	
ON	OFF	ON	OFF	ON	OFF	ON	OFF
<input type="checkbox"/>	<input type="checkbox"/>	<input type="checkbox"/>	<input type="checkbox"/>	<input type="checkbox"/>	<input type="checkbox"/>	<input type="checkbox"/>	<input type="checkbox"/>

Justifier votre réponse.

**Baccalauréat Professionnel
Électrotechnique, énergie, équipements communicants**

EPREUVE E2 : Étude d'un ouvrage

SESSION 2009

**Sujet : Approfondissement du champ
d'application habitat-tertiaire**

Baccalauréat Professionnel Électrotechnique, énergie, équipements communicants			
Épreuve : E2	SUJET	0906-EEE EO	Durée : 5 heures
			Page : 16/ 30
			Coefficient : 5

L'étude portera sur l'éclairage de la **voie de circulation GEN 1556**.

Les tubes fluorescents sont conservés mais la commande est modifiée (se reporter à la partie A du tronc commun). L'étude devra déterminer si l'éclairage obtenu est compatible avec les normes en vigueur dans ce type d'établissement.

Ressources :

- Dossier technique page 15/35
- Dossier ressources pages 26/35 à 29/35

D 1. CALCUL DE L'ECLAIREMENT AVANT MODIFICATION

L'étude se limitera à la partie A de la voie de circulation GEN 1556

D 1.1. Rechercher les dimensions de la partie A de la voie de circulation GEN 1556

Partie A	Largeur $l_A =$
	Longueur $L_A =$

D 1.2. Calcul de l'éclairage de la partie A

➤ **Déterminer l'indice du local (K)**

FORMULE	APPLICATION NUMERIQUE	RESULTAT
$K = \frac{l_A \times L_A}{(l_A + L_A) \times H}$	K =	K =

Prendre la valeur immédiatement supérieure ,dans le tableau des utilances.

K retenu =

➤ **Déterminer les facteurs suivants :**

- Rapport de suspension **J**

FORMULE
$J = \frac{H_2}{H_2 + H_3}$

H₂ : Hauteur de suspension du luminaire

H₃ : Hauteur du luminaire au dessus du plan de travail

RESULTAT	J =
----------	-----

- Facteur d'empoussièrement

F1 =

- Facteur compensateur de dépréciation

F2 =

- Facteur de réflexion

Plafond :	Mur :	Sol :
-----------	-------	-------

➤ **Déterminer le rendement photométrique du luminaire :**

Référence du luminaire

--

Equation photométrique du luminaire
(colonne rendement photométrique)

--

En déduire la classe du luminaire

--

En déduire le rendement photométrique du luminaire

η =

➤ **Déterminer l'utilance en % :**

U =

➤ Relever sur le plan le nombre d'appareils éclairant la partie A

N =

- Déterminer le flux fourni par un appareil

Référence du tube fluorescent

Fux lumineux fourni par ce tube

- Déterminer le flux total fourni par les luminaires

FORMULE	APPLICATION NUMERIQUE	RESULTAT
$F_T = N \times F_a$	$F_T =$	$F_T =$

- Calculer la valeur de l'éclairement de la partie A.

FORMULE	APPLICATION NUMERIQUE	RESULTAT
$E = \frac{F_T \times \eta \times U}{l_A \times L_A \times F1 \times F2}$	$E =$	$E =$

Considérer que l'éclairement de la partie A avec la totalité des luminaires installés est de 210 lux.

D 1.3. Conclusion

Fonctionnement de nuit :

Quelle est la valeur de l'éclairement de nuit recommandé par la norme NBN EN 12464-1 ?

L'éclairement de la voie de circulation GEN 1556 partie A est-il suffisant lorsque 1/3 des luminaires sont allumés en mode minuterie?

OUI	<input type="checkbox"/>
NON	<input type="checkbox"/>

Fonctionnement de jour :

Quelle est la valeur de l'éclairement de jour recommandé par la norme NBN EN 12464-1 ?

L'éclairement de la voie de circulation GEN 1556 partie A est-il suffisant lorsque 2/3 des luminaires sont allumés ?

OUI	<input type="checkbox"/>
NON	<input type="checkbox"/>

La commande en mode télérupteur du tiers des luminaires supplémentaire se justifie-t-elle ?

OUI	<input type="checkbox"/>
NON	<input type="checkbox"/>

D 2. REPLACEMENT DES SPOTS DE LA VOIE DE CIRCULATION GEN 1554

Les spots de la voie de circulation GEN 1554 sont équipés de lampes à décharge compactes Mazda référence Apache 35R30° PAR20.

La durée de vie de ces lampes est faible (4000 h) et leur coût est relativement élevé.

L'étude portera sur leur remplacement par des lampes fluo-compactes.

D 2.1 Déterminer le flux lumineux fourni par une lampe Apache

Les spots sont intégrés aux faux plafonds (hauteur 3 m)

- Relever sur le graphique constructeur

l'éclairement au sol

E =

le diamètre du cône de lumière au sol.

D =

- Calculer en m^2 , la surface au sol éclairée par une lampe

FORMULE	APPLICATION NUMERIQUE	RESULTAT
S =	S =	S =

- Calculer le flux lumineux fourni par une lampe Apache

FORMULE	APPLICATION NUMERIQUE	RESULTAT
F = E x S	F =	F =

D 2.2 Choisir parmi les lampes fluo-compactes une lampe qui convient.

Prendre 1200 lm comme flux lumineux.

- Désignation de la lampe

- Désignation du culot de la lampe

Le culot est-il compatible avec celui des lampes Apache ?

OUI	
NON	

D 2.3 Calculer le temps de fonctionnement d'une lampe fluo-compacte.

Les spots de la voie de circulation GEN 1554 ne fonctionnent que la nuit de 23h à 5h 30.

- Durée de vie d'une lampe

- Temps de fonctionnement par jour

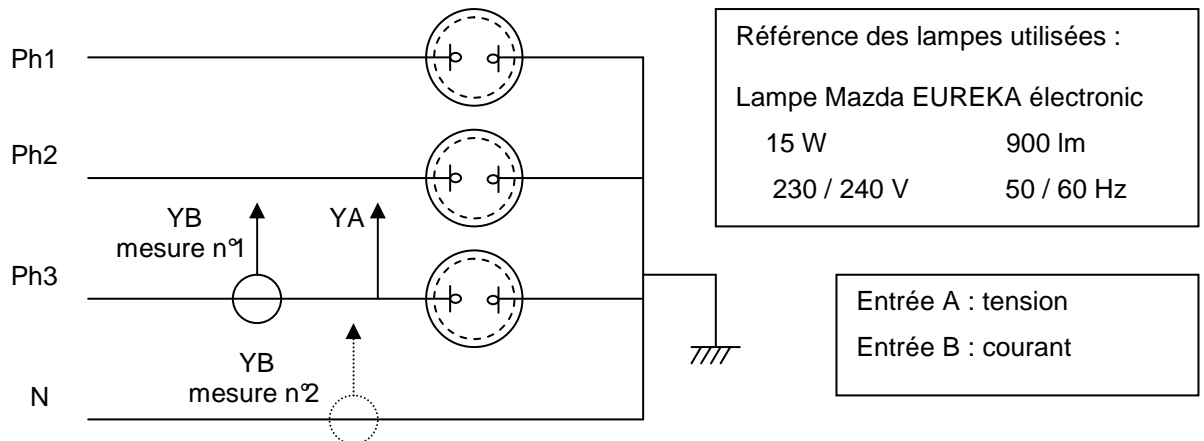
- Temps de fonctionnement avant remplacement

FORMULE	APPLICATION NUMERIQUE	RESULTAT
t =	t =	t = t en année =

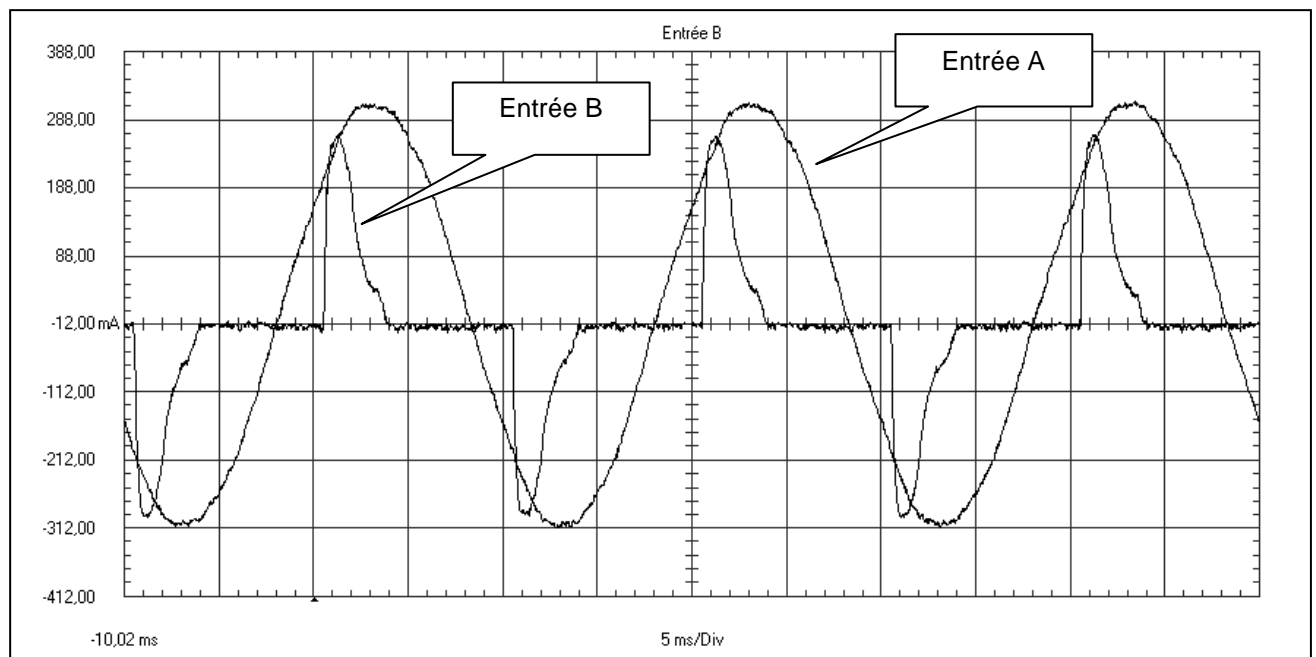
D 3. POLLUTION DU RESEAU

L'étude portera sur la pollution du réseau engendrée par l'utilisation de lampes fluo-compactes.

Afin d'étudier l'influence des lampes fluo-compactes sur le réseau, le montage suivant a été réalisé.



D 3.1. Relevé de la tension aux bornes d'une lampe et du courant dans la phase correspondante



La courant est-il alternatif sinusoïdal ?

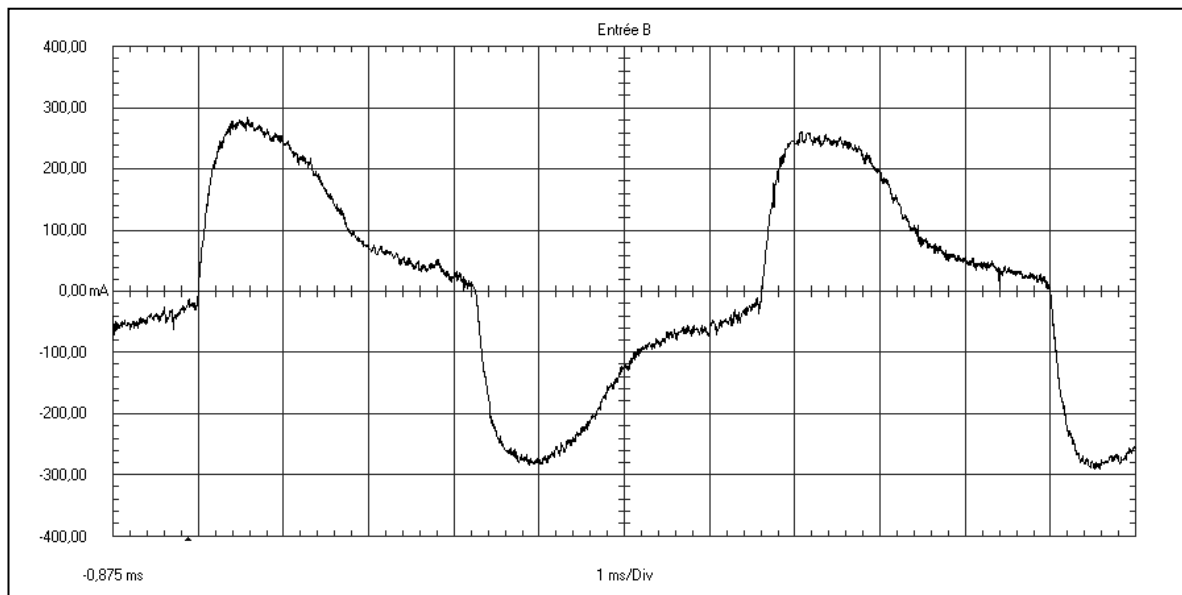
OUI	<input type="checkbox"/>	NON	<input type="checkbox"/>
-----	--------------------------	-----	--------------------------

Quelle perturbation va-t-il engendrer sur le réseau ?

Réponse :

.....

D 3.2. Relevé du courant dans le neutre



Calculer la fréquence du courant dans le neutre.

FORMULE	APPLICATION NUMERIQUE	RESULTAT
f=	f =	f =

Préciser la fréquence exacte du courant dans le neutre :

f =

Comment expliquer la présence d'un courant dans le neutre ?

Réponse :

.....

.....

**Baccalauréat Professionnel
Électrotechnique, énergie, équipements communicants**

EPREUVE E2 : Étude d'un ouvrage

SESSION 2009

**Sujet : Approfondissement du champ
d'application industriel**

Baccalauréat Professionnel Électrotechnique, énergie, équipements communicants			
Épreuve : E2	SUJET	0906-EEE EO	Durée : 5 heures
			Page : 24/ 30
			Coefficient : 5

Les centrales de traitement d'air (CTA) maintiennent une température et une hygrométrie constantes réglées en fonction de l'utilisation du local.

La centrale de traitement d'air étudiée (CTA C25) gère l'air ambiant d'une salle d'opération. La température est maintenue à 17 ° à la demande des chirurgiens. Cette salle est en légère surpression pour que les germes contagieux ne puissent pas entrer.

Les agents spécialisés dans la maintenance des centrales de traitement d'air doivent s'assurer en permanence du bon fonctionnement des éléments suivants : groupes moto-ventilateurs, variateurs de vitesses, différents capteurs.

Une bonne connaissance des schémas électriques et des réglages des appareils est nécessaire pour assurer des interventions rapides.

L'étude portera sur la vérification du dimensionnement du moteur de soufflage, du variateur associé, du raccordement du variateur et de son paramétrage.

Ressources :

- Dossier technique pages 16/35 et 17/35
- Dossier ressources pages 30/35 à 35/35

E 1. SELECTION RAPIDE DES CENTRALES CCM

Sélectionner la centrale de traitement d'air en fonction du débit d'air en sortie et de la vitesse d'air admissible.

La centrale utilisée est horizontale et sans séparateur.

Vitesse d'air maximale retenue :

Débit d'air en sortie de la centrale :

Référence de la centrale d'air à installer :

E 2. DIMENSIONNEMENT DU MOTEUR DE SOUFLAGE

Vérifier le dimensionnement du moteur de soufflage fournissant l'air neuf au plafond diffusant.

Calcul de la pression totale H_T que doit fournir le ventilateur compte tenu de la pression disponible en sortie de gaine H_V et des pertes de charge H_C dues aux filtres et aux gaines.

FORMULE	APPLICATION NUMERIQUE	RESULTAT
$H_T = H_V + H_C$	$H_T =$	$H_T =$

Calcul de la puissance nécessaire sur l'arbre du ventilateur compte tenu du rendement du ventilateur.

FORMULE	APPLICATION NUMERIQUE	RESULTAT
$P_V = Q \times H_T / \eta_v$ <div style="display: flex; justify-content: space-around; margin-top: 10px;"> <div style="border: 1px solid black; padding: 2px;">W</div> <div style="border: 1px solid black; padding: 2px;">m^3 / s</div> <div style="border: 1px solid black; padding: 2px;">Pa</div> </div>	$P_V =$	$P_V =$

Calcul de la puissance sur arbre moteur compte tenu de la transmission par courroie.

FORMULE	APPLICATION NUMERIQUE	RESULTAT
$P_M =$	$P_M =$	$P_M =$

On désire surdimensionner le moteur de 25 % pour pouvoir pallier l'encrassement des filtres.

Calculer la puissance utile du moteur d'entraînement.

FORMULE	APPLICATION NUMERIQUE	RESULTAT
$P'_M =$	$P'_M =$	$P'_M =$

Puissance du moteur installé :

Le moteur installé est :

Conforme	<input type="checkbox"/>
Non conforme	<input type="checkbox"/>

E 3. CHOIX DES VARIATEURS ASSOCIES AUX MOTEURS

Donner la référence du variateur associé au moteur de soufflage. Il devra être équipé d'une unité de commande LCP, sans carte optionnelle. La tension réseau est précisée sur le schéma page suivante. Pour faciliter la maintenance dans l'armoire, l'indice de protection du variateur devra être IP 2x.

VLT	6				H	T			S	T	R	3	D			
-----	---	--	--	--	---	---	--	--	---	---	---	---	---	--	--	--

E 4. RACCORDEMENT DU MOTEUR DE SOUFFLAGE ET DU VARIATEUR ASSOCIE

Page suivante, compléter le schéma folio 35 /102 par :

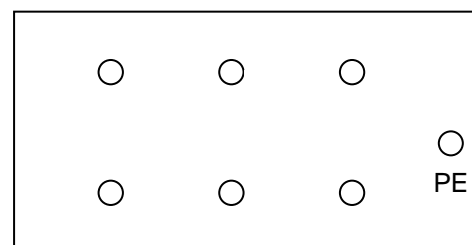
- L'alimentation et la protection du variateur de vitesse par un disjoncteur repéré Q26.
- Le raccordement du moteur au variateur (la protection thermique du moteur est assurée par le variateur).
- La commande du variateur par un signal 0 – 10 V délivré par une sortie analogique de l'A.P.I. UTL N°2.
- La mise en service du variateur (fonction RUN / STOP) lorsque la bobine du relais KA 71 est alimentée (de plus la borne 27 du variateur doit être au potentiel + 24 V).
- La commande du relais KA71 lorsque aucun défaut n'est constaté
 - Défaut ipsotherme signalé par le relais KA 74.
 - Défaut antigel signalé par le relais KA 75.
 - Défaut variateur signalé par le relais KA 72.

Préciser sous le repère de chaque contact l'indication de l'emplacement de sa bobine.

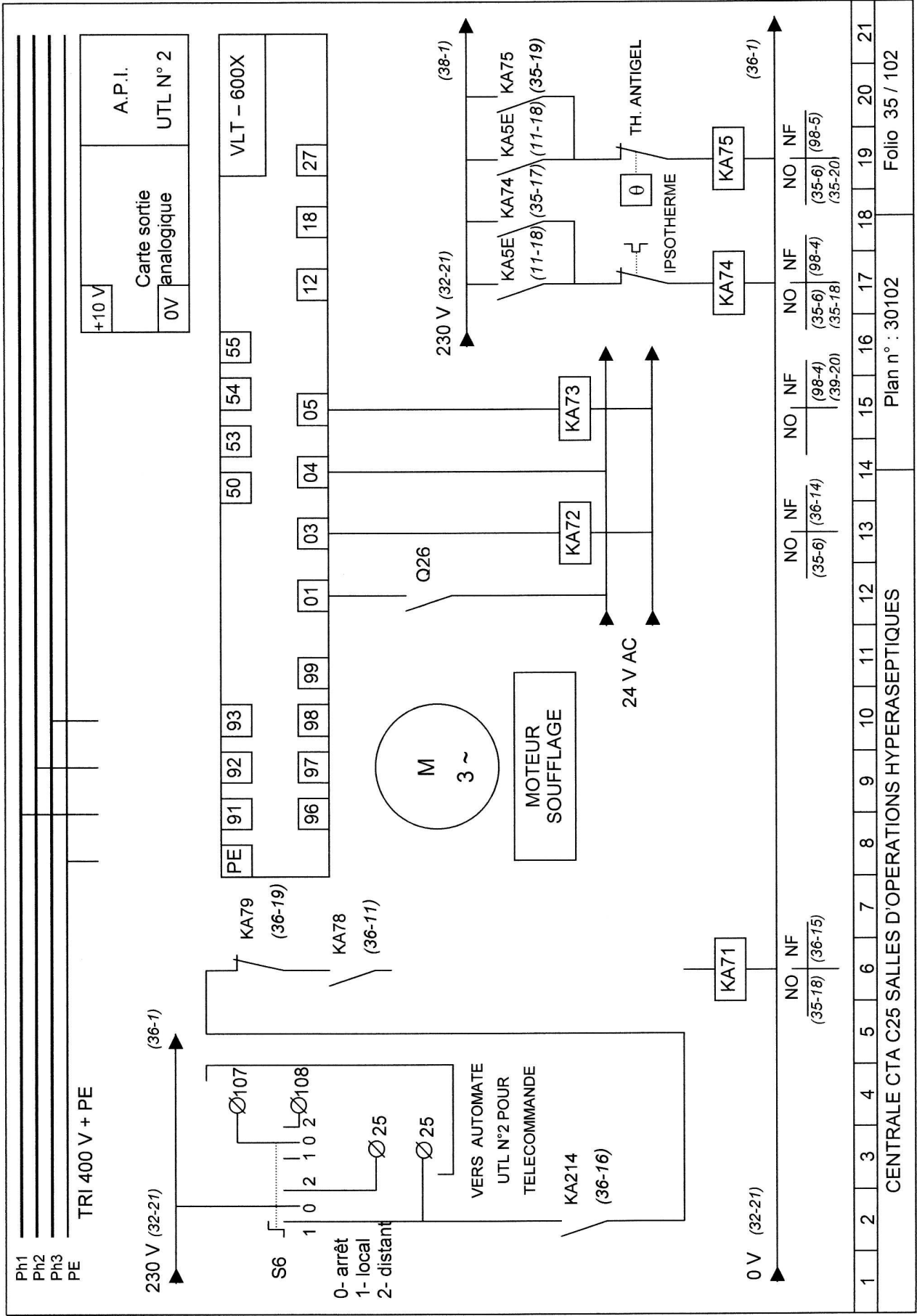
Compléter la plaque à bornes du moteur à partir de la plaque signalétique du moteur et du réglage du variateur (**voir question E5**). Faire apparaître les enroulements, le repérage des bornes, l'alimentation et le couplage.

LS LEROY® SOMER		3~ LS 112M T					
		N° 101 493 LA003					
IP 55 IK 06 cI F		40 °C		S S1		kg 35	
V	Hz	min ⁻¹	kW	cos φ	A		
Δ 220	50	2815	4.00	0.90	14.40		
Y 380	50	2815	4.00	0.90	8.30		
Δ 230	50	2840	4.00	0.86	14.20		
Y 400	50	2840	4.00	0.86	8.20		
Δ 240	50	2855	4.00	0.83	14.50		
Y 415	50	2855	4.00	0.83	8.40		

96	97	98	99
----	----	----	----



Couplage	
----------	--



E 5. REGLAGE DU VARIATEUR

Déterminer la programmation des 13 paramètres principaux du variateur associé au moteur de soufflage. Pour le paramètre 105, se référer à la plaque signalétique du moteur (**voir question E4**).

Le temps d'accélération est de 50s et le temps de décélération de 40s pour ne pas travailler par à coups. Les paramètres 323 et 326 sont réglés aux paramètres d'usines.

Paramètre	OO1	102	103	104	105	106
Réglage	[2]		[400]			

200	201	202	206	207	323	326
[0]	[20]	[60]				

E 6. REGLAGE DE LA VITESSE DU MOTEUR DE SOUFLAGE

La sortie 0 – 10 V de l'A.P.I. UTL N°2 règle la vitesse du moteur de soufflage.

Pour 0V, la vitesse du moteur est égale à la vitesse mini paramétrée sur le variateur.

Pour 10V, la vitesse du moteur est égale à la vitesse maxi paramétrée sur le variateur.

Compléter le tableau suivant donnant la correspondance entre tension, fréquence et vitesse.

Tension en V	0	4		10
Fréquence f en Hz			50	
Vitesse n en min⁻¹				

Donner le détail des calculs pour U = 4 V en sortie de la carte numérique analogique.

CALCULS
f =
n =

RESULTATS
f =
n =

RECAPITULATIF DU TOTAL DES POINTS

Barème de notation	
TRONC COMMUN	
PARTIE A	60
PARTIE B	40
PARTIE C	40
SOUS TOTAL / 140	140
<u>APPROFONDISSEMENT DU CHAMP HABITAT TERTIAIRE</u>	
PARTIE D	60
SOUS TOTAL / 60	60
<u>APPROFONDISSEMENT DU CHAMP INDUSTRIEL</u>	
PARTIE E	60
SOUS TOTAL / 60	60
Note obtenue :	200
Note finale sur 20 En points entiers	