



MATHebdo

Semaine 12 – CP

DU NOUVEAU

1. **Sous le sapin**, il y a 8 cadeaux pour Louis, 6 cadeaux sont pour Rachel et 5 cadeaux ont été déposés pour Sofia. **Peux-tu dire combien de cadeaux il y a sous le sapin ?**

2. **La bûche de Noël**. Cette année, maman a coupé la bûche de Noël en 12 parts. Le premier soir, nous avons mangé 6 parts. **Combien reste-t-il de parts ?**

ENTRAÎNEMENT

3. **Les cadeaux déballés**. Ce matin, j'ai trouvé 11 cadeaux au pied du sapin. J'ai déjà déballé 5 paquets. **Combien de cadeaux sont encore emballés ?**

4. **Le calendrier de l'Avent**. Aujourd'hui nous avons déjà mangé 15 des 24 chocolats de notre calendrier de l'avent. **Combien de chocolats reste-t-il ?**

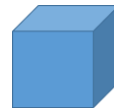
5. **Les rennes du Père Noël**. Le Père Noël équipe ses 6 rennes avec des grelots. Il place 5 grelots sur chaque renne. **Combien lui faudra-t-il de grelots pour équiper tous ses rennes ?**

6. **Les voitures et les puzzles**. Le Père Noël a distribué 8 cadeaux : 3 sont des voitures et les autres sont des puzzles. **Combien de puzzles a-t-il distribués ?**

7. **Des cookies pour les lutins**. Pour remercier ses lutins de leur travail, le Père Noël distribue 3 cookies à chacun de ses 5 lutins. **Combien de cookies le Père Noël a-t-il distribués ?**

GEOMETRIE

8. **La hotte du Père Noël**. Aide le Père Noël à préparer ses hottes en triant les cadeaux en forme de **CUBE** (les paquets pour lesquels toutes les faces te semblent carrées).




Range les autres formes de cadeau dans l'**AUTRE** hotte.



9. Mon beau sapin

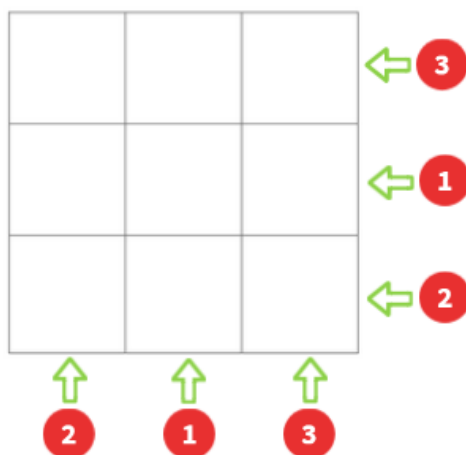
Colorie les triangles pour décorer ton sapin.



REMUE-MENINGE

Le défi des lutins

Dessine des lutins dans chaque case de façon à en avoir le bon nombre dans chaque ligne et dans chaque colonne.



MATHS alors ! Le Père Noël aime les mathématiques.

La preuve : dans son nom, nous entendons des mots mathématiques.

Le PAIR NOEL ?

IM-PAIR NOEL ?

Connais-tu les nombres pairs et impairs ? Voici plusieurs définitions pour les petits et grands :

Nombre pair	Nombre impair
<ul style="list-style-type: none">- Un nombre pair est un nombre que l'on peut partager en 2.- Un nombre entier qui est divisible par 2.- Un nombre entier qui est un multiple de 2.- Un nombre dont le chiffre des unités est 0, 2, 4, 6 ou 8.	<ul style="list-style-type: none">- Un nombre impair ne peut pas être partagé en 2.- Un nombre entier qui n'est pas divisible par 2.- Un nombre dont le chiffre des unités est 1, 3, 5, 7 ou 9.