





Replace le plan A et le plan C sur l'axe du temps 

Comment appelle-t-on le procédé qui permet de passer du plan A au plan C ?

Que nous racontent ces plans ?

.....
.....
.....



Replace le plan A et le plan C sur l'axe du temps.

Comment appelle-t-on le procédé qui permet de passer du plan A au plan B ?

Quel mouvement de caméra permet de passer du plan B au plan C ?

Que nous racontent ces plans ?

.....
.....
.....



Comment appelle-t-on le procédé qui permet de passer du plan A au plan B ?


Que nous racontent ces plans ?

.....
.....
.....



Par quel mouvement de caméra se fait cet enchaînement de plan ?

Quel est le lien visuel qui permet de passer d'un plan à l'autre ?



Que pensez-vous des couleurs dans ces photogrammes ? Quelle est l'intention du réalisateur ?



Par quels procédés cinématographiques l'ellipse est-elle suggérée ?



Comment appelle-t-on le procédé qui permet de passer du plan A au plan B ?

Que nous racontent ces plans ?